

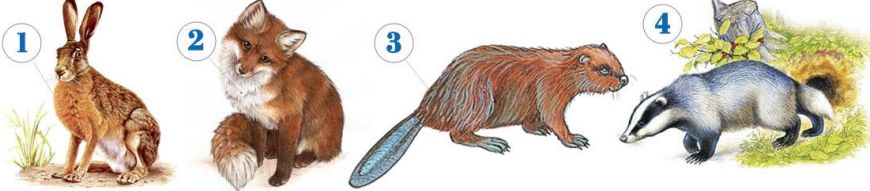


III Международный интеллектуальный турнир

«Марафон Знаний» (для учащихся 3-4 классов)

Ответы

Ответ должен быть представлен строго в виде **ОДНОГО СЛОВА**, **БУКВЫ** или **ЧИСЛА** (согласно условию задания) без кавычек, точек, орфографических ошибок. Некоторые вопросы содержат подсказку – буквы ответа. Неверно записанные ответы не учитываются.

Задание №1		Ответ
<p>Математическая разминка</p> <p>У бабушки Белки 28 шишек. Когда она раздала каждому внуку-бельчонку по 4 шишки, то у неё осталось 4 шишки. Сколько внуков у бабушки?</p> <p><i>В ответе запиши количество внуков</i></p>		6
<p>Задание №2</p> <p>Загадки окружающего мира</p> <p>Разгадай ребус и узнаешь название самого быстрорастущего растения на Земле.</p> <p><i>В ответе запиши получившееся слово</i></p>		Ответ Бамбук
<p>Задание №3</p> <p>Увлекательная география</p> <p>Вспоминай название самого большого по площади и глубине океана на Земле.</p> <ol style="list-style-type: none"> Южный океан Тихий океан Индийский океан Атлантический океан Северный Ледовитый океан <p><i>В ответе укажи только номер выбранного варианта (1 или 2 или 3 или 4 или 5)</i></p>		Ответ 2 Тихий океан
<p>Задание №4</p> <p>Наша Родина</p> <p>В каждой стране есть свой главный праздник, который отмечается ежегодно. Он объединяет людей чувством гордости за подвиги предков. Такой праздник есть и в России – это 9 Мая. А что это за праздник?</p> <ol style="list-style-type: none"> День Победы День России День Защитника Отечества <p><i>В ответе укажи только номер выбранного варианта (1 или 2 или 3)</i></p>		Ответ 1 День Победы
<p>Задание №5</p> <p>Считаем кубики</p> <p>Ребята, посмотрите на картинку. Вася собрал из кубиков лесенку из 3-х ступенек. Для этого он использовал 6 кубиков. Сколько ещё кубиков нужно добавить Васе, чтобы у его лесенки было 7 ступенек?</p> <p><i>В ответе запиши только число дополнительных кубиков</i></p>		Ответ 22 <i>Решение:</i> Для 4-ой ступеньки нужно добавить 4 кубика, а для 5-ой – 5 кубиков, для 6-ой – 6 кубиков, для 7-ой – 7 кубиков. 4+5+6+7=22

Задание №6		Ответ
<p align="center">Азбука здоровья</p> <p>Ребята, на картинке 4 анаграммы. Расставьте буквы так, чтобы получились слова. Найдите и запишите в ответе лишнее слово, не связанное со здоровым образом жизни.</p> <p><i>В ответе запиши лишнее слово</i></p>	<p align="center">ДКАЗАРЯ ФЕТАКОН ЛКАПРОГУ ЕНГИАГИ</p>	<p align="center">2 Конфета</p>
Задание №7		Ответ
<p align="center">Лесные домики</p> <p>Жилище какого зверя называется «хатка»? Найдите его на картинке.</p>  <p><i>В ответе укажи только номер выбранного варианта (1 или 2 или 3 или 4)</i></p>		<p align="center">3 Бобёр Бобр</p>
Задание №8		Ответ
<p align="center">Я открываю космос</p> <p>Эту планету легко узнать по поясу из широких колец. Это вторая по величине планета нашей Солнечной системы. Ее диаметр 120 тысяч километров. Вокруг солнца она обращается за 29 лет. Как называется эта планета?</p> <p align="center">-----</p> <p><i>В ответе запиши название планеты</i></p>		<p align="center">Сатурн</p>
Задание №9		Ответ
<p align="center">Математика вокруг нас</p> <p>Хозяйственная Баба Яга решила закупить несколько метёлок на летний сезон. 6 метёлок стоят 3600 рублей. Но сегодня в магазине проходит акция. На каждую метлу скидка 200 рублей. Сколько метёлок со скидкой сможет купить Баба Яга на 3600 рублей.</p> <p><i>В ответе запиши количество метёлок, купленных по акции</i></p>		<p align="center">9</p> <p><i>Решение:</i> Без акции одна метла стоит 3600/6=600 рублей. По акции одна метла стоит 600-200=400 рублей. Значит, Баба Яга сможет купить по акции 3600/400=9 метёлок</p>
Задание №10		Ответ
<p align="center">Лабиринты грамматики</p> <p>Выбери <u>правильный</u> вариант написания предложения:</p> <ol style="list-style-type: none"> 1. Маша с днем рожденья! 2. Маша, с днем рождением! 3. Маша, с днем рожденьем! 4. Маша, с днем рождения! <p><i>В ответе укажите только номер выбранного варианта (1 или 2 или 3 или 4)</i></p>		<p align="center">4 Маша, с днем рождения!</p>

Задание №11**Игры с числами**

У Маши и Даши поле с числами. По сигналу бабушки они должны закрыть карточками ячейки с числами, которые делятся на 2 без остатка. Побеждает тот, кто закроет больше ячеек. Какое минимальное число ячеек должна закрыть Маша, чтобы победить?

4	9	2	6	7	8	1	3
1	7	4	10	3	7	4	6
6	3	8	1	9	5	10	2

В ответе запиши минимальное число ячеек для победы

Ответ

7

Задание №12**Путешествие по сказкам**

Однажды известный любитель мёда Винни Пух услышал жужжание и решил достать свое любимое лакомство из дупла диких пчел. Чем прикинулся медвежонок, когда полез на дуб за медом?

1. Жёлтым ярким солнышком
2. Маленькой черной тучкой
3. Белым пушистым облачком

В ответе укажи только номер выбранного варианта (1 или 2 или 3)

**Ответ**

2

Задание №13**Любопытная зоология**

Выбери группу животных, которых можно встретить в естественной среде обитания только в Австралии.

Киви Кенгуру Коала	Лось Волк Лиса	Лев Зебра Бегемот
1	2	3

В ответе укажи только номер выбранного варианта (1 или 2 или 3)

Ответ

1

Задание №14**Игры со словами**

В данных словах «спрятаны» названия живых существ. И только в одном слове ничего не найти. Отыщи это слово.

- 1.Клевер
- 2.Понимание
- 3.Черёмуха
- 4.Минутка
- 5.Казань
- 6.Чукотка

В ответе укажи только номер выбранного варианта (1 или 2 или 3 или 4 или 5 или 6)

- 1.Клевер
- 2.Понимание
- 3.Черёмуха
- 4.Минутка
- 5.Казань
- 6.Чукотка

Ответ5
Казань

Задание №15**Ответ****Эти удивительные птицы**

В мире волшебников эта птица выполняет работу почтальонов. При этом она всегда знает, где найти адресата, даже если на конверте стоит только имя получателя, а его дом находится под неизвестным заклятием. А в нашем мире – это хищники и питаются они грызунами и небольшими птицами.



В ответе укажи только номер выбранного варианта (1 или 2 или 3 или 4)

1**Задание №16****Ответ****Занимательная логика**

В 4-х этажном лесном теремке живут Белочка, Ёжик, Хомяк и Енот. Енот живёт выше Ёжика, но ниже Белочки. Хомяк живёт только выше Ёжика. Кто живёт на втором этаже?

1. Белочка
2. Ёжик
3. Хомяк
4. Енот

В ответе укажи только номер выбранного варианта (1 или 2 или 3 или 4)

**3
Хомяк****Задание №17****Ответ****Мир насекомых**

Это, безусловно, самый близкий родственник пчелы. Он отличается от пчёл, прежде всего, величиной и густыми длинными волосками, покрывающими всё тело. Он прекрасно опыляет цветы и отличается исключительным трудолюбием.

В ответе запиши название насекомого

**Шмель****Задание №18****Ответ****Сказочные взвешивания**

Ребята, посмотрите на весы и определите, кто из сказочных героев весит **больше всех**: колобок, Баба Яга или Леший?

1. Колобок
2. Баба Яга
3. Леший

В ответе укажи только номер выбранного варианта (1 или 2 или 3)

**3
Леший**

Уважаемые ребята, родители и координаторы!

Мы будем очень благодарны Вам за оставленный отзыв о конкурсе.

Ждём все Ваши предложения, пожелания и замечания на наши электронные адреса:

mir-konkursov2008@yandex.ru и mir-konkursov2018@yandex.ru