

**Всероссийский межпредметный турнир
к началу учебного года «Почемучка»
(для дошкольников 5-7 лет)**

Задания

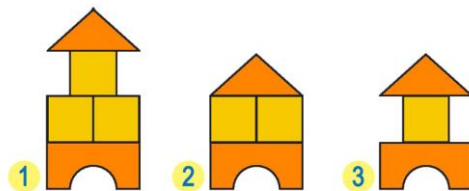
Ответ должен быть представлен строго в виде **ОДНОГО СЛОВА, БУКВЫ** или **ЧИСЛА** (согласно условию задания) без кавычек, точек, орфографических ошибок. Некоторые вопросы содержат подсказку – буквы ответа. Неверно записанные ответы не учитываются.

Задание №1

Найди на картинке домик из таких деталей:



*В ответе укажи только номер выбранного варианта
(1 или 2 или 3)*



Задание №2

Какая фигурка не синяя и не круглая?


*В ответе укажи только номер выбранного варианта
(1 или 2 или 3)*



Задание №3

Сколько яблок надо добавить к фруктам на картинке, чтобы яблок и груш стало поровну?

- 1. 1
- 2. 2
- 3. 3
- 4. 4



*В ответе укажи только номер выбранного варианта
(1 или 2 или 3 или 4)*

Задание №4

Выбери то, что ни в коем случае нельзя есть в лесу.



В ответе укажи только номер выбранного варианта (1 или 2 или 3 или 4)

Задание №5

Отгадай загадку!

В Африке живёт.

Травку жуёт.

Носит матроску

В чёрно – белую полоску.



З _ _ _ _

В ответе запиши слово-отгадку

Задание №6

Весёлая математика

В семье зайчат появилось потомство из 6 ушек. Сколько же маленьких зайчат появилось на свет?

Запишите число зайчат в ответе

Задание №7

Какой из трёх мячей лежит на втором месте слева?



Выбери нужный мяч и запиши его номер в ответе:



В ответе укажи только номер выбранного варианта (1 или 2 или 3)

Задание №8

Какое число закрыто кружком?

$$3 + \text{○} = 5$$

- 1
- 2
- 3
- 4

В ответе укажи только номер выбранного варианта (1 или 2 или 3 или 4)

Задание №9

Ой, кто-то неправильно подписал портрет этого сказочного персонажа. Замени неправильную букву на верную, и в ответе запиши получившееся слово.

В ответе запиши получившееся слово



КОРОБОК

Задание №10

В мире профессий

Какая профессия была у Печкина – персонажа произведения Эдуарда Успенского «Трое из Простоквашино»?


1. Строитель
2. Почтальон
3. Водитель

В ответе укажи только номер выбранного варианта (1 или 2 или 3)



Задание №11


На лесной полянке растёт 6 деревьев по кругу. В каждом промежутке между деревьями Бурундук вырыл по одной норке для своего семейства. Сколько всего норок Бурундука на лесной полянке?



В ответе запиши число норок у Бурундука


Задание №12

Наш весёлый червячок потерял одну часть.



Помоги ему собрать себя целиком.

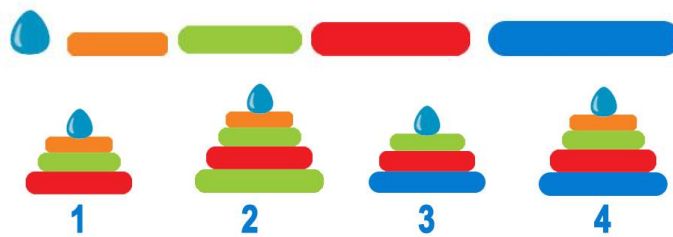
В ответе укажи только номер выбранного варианта (1 или 2 или 3)



1 2 3

Задание №13

Какая пирамидка получится из всех этих деталей?

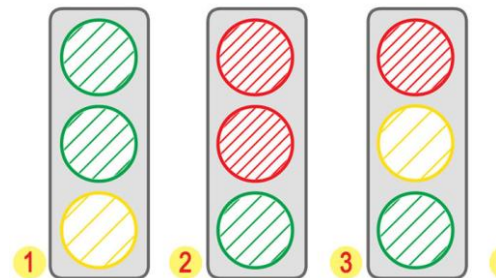


В ответе укажи только номер выбранного варианта (1 или 2 или 3 или 4)

Задание №14

Найди правильное изображение транспортного светофора.

В ответе укажи только номер выбранного варианта (1 или 2 или 3)



Оценка ответов на вопросы конкурса:

- за каждый правильный ответ на задания с 1 по 12 – 7 баллов
- за каждый правильный ответ на задания с 13 по 14 – 8 баллов

Уважаемые ребята, родители и координаторы!

Мы будем очень благодарны Вам за оставленный отзыв о конкурсе.

Нам очень важно знать ваше мнение о конкурсных заданиях. Что нового вы узнали, участвуя в конкурсе? Какие задания показались лёгкими? А какие самыми сложными? Что вам не понравилось? Хотели бы вы ещё участвовать в подобных конкурсах?

Ждём все Ваши предложения, пожелания и замечания на наши электронные адреса:

mir-konkursov2008@yandex.ru и mir-konkursov2018@yandex.ru