

II Международный турнир по математике «Лидер» (для дошкольников)

Задания

Ответ должен быть представлен строго в виде **ОДНОГО ЧИСЛА** или **СЛОВА** (согласно условию задания) без кавычек, точек и других дополнительных символов. Неверно записанные ответы не учитываются.

Задание №1

Три мальчика взяли по одному яблоку в каждую руку.

Сколько всего у них яблок?

Задание №2

Дедушка распилил бревно в трёх местах.

Сколько поленьев получилось у дедушки?



Задание №3

Петя выложил в ряд 5 груш, Маша между всеми грушами положила по 1 сливе.

Сколько всего получилось плодов?

Задание №4

Помогите разделить 12 орехов поровну между тремя бельчатами.
Сколько орехов достанется каждому бельчонку?

В ответе запиши число орехов у каждого бельчонка



Задание №5

У Пети дома живут собака Жучка, кот Васька, попугай Кеша и золотая рыбка. Сосчитай, сколько всего лап (ног) у всех его питомцев.

В ответе запиши общее число лап (ног)

Задание №6

У Васи есть 9 цветных карандашей. А у Пети только 3. Сколько карандашей Вася может отдать Пете, чтобы у друзей карандашей стало поровну?




Задание №7

Разноцветные бумажные полоски положили друг на друга. Какого цвета полоска находится между двумя другими? Запиши в ответе номер выбранного варианта.

1. жёлтая
2. зелёная
3. красная

В ответе укажите только номер выбранного варианта (1 или 2 или 3)



Задание №8

В магазине стоит очередь. Вася оказался третьим с конца и третьим с начала очереди.

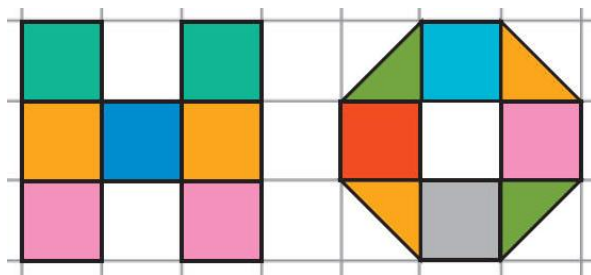
Сколько всего человек стоит в очереди?

Задание №9

Чтобы закрасить одну белую клеточку, нужно потратить одну баночку краски. Маша раскрасила букву «Н», а Петя раскрасил букву «О». *Кто из детей потратил больше баночек краски?*

1. Маша
2. Петя
3. Одинаково

В ответе укажите только номер выбранного варианта (1 или 2 или 3)



Задание №10

Три девочки катались на велосипедах. У них были двухколёсные и трёхколёсные велосипеды. Бабушка насчитала всего 8 колёс.

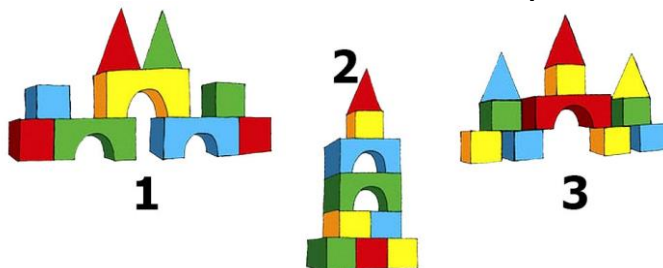
Сколько было трёхколёсных велосипедов?

Задание №11

Какую постройку можно собрать из всех элементов, изображённых на картинке?



Подсказка: одну фигуру можно использовать только один раз.



В ответе укажи только номер выбранного варианта (1 или 2 или 3)

Задание №12

Маша разложила игрушки в коробки. В коробке №1 лежит НЕ мишка и НЕ кукла. В коробке №3 лежит НЕ кукла.

Какая игрушка лежит в коробке №2?

1. Мишка
2. Пирамидка
3. Кукла

В ответе укажи только номер выбранного варианта (1 или 2 или 3)



Уважаемые ребята, родители и координаторы!

Мы будем очень благодарны Вам за оставленный отзыв о конкурсе.

Нам очень важно знать ваше мнение о конкурсных заданиях. Что нового вы узнали, участвуя в конкурсе? Какие задания показались лёгкими? А какие самыми сложными? Что вам не понравилось? Хотели бы вы ещё участвовать в подобных конкурсах?

Ждём все Ваши предложения, пожелания и замечания на наши электронные адреса:

mir-konkursov2008@yandex.ru и mir-konkursov2018@yandex.ru