

Международный интеллектуальный конкурс «Лесная арифметика» (для дошкольников)

Задания

Ответ должен быть представлен строго в виде **ОДНОГО ЧИСЛА** или **СЛОВА** (согласно условию задания) без кавычек, точек и других дополнительных символов. Неверно записанные ответы не учитываются.

Задание №1

Десять белочек собирали орехи. Посчитай, сколько орехов нужно ещё собрать, чтобы каждая белочка смогла подкрепиться.



В ответе напиши получившийся результат

Задание №2

На картинке персонажи известной сказки «Репка». Сосчитай, сколько животных тянули репку.



В ответе запиши количество животных

Задание №3


Ёжик Яшка собирал грибы. Он нашёл 3 мухомора, 2 лисички, 2 маслёнка и 3 опёнка. Сколько съедобных грибов нашёл Яшка?

В ответе запиши число съедобных грибов

Задание №4

Белочка Соня собирала на полянке волшебные математические цветы. Сумма чисел на каждом собранном цветке должна равняться 10. Сколько цветов собрала белочка Соня?

В ответе запишите только количество цветов, собранных белочкой



Задание №5

Белочка Соня несла в корзинке фрукты. Груш было столько, сколько и яблок. А яблок было столько же, сколько и бананов.

Сосчитай, сколько всего фруктов несла белочка в корзинке, если бананов было 3.

Задание №6

У мамы-лисы семь лисят. Все лисята, кроме двух, умеют считать.

Сколько лисят умеет считать?

Задание №7

Кролик Стёпка написал цветными карандашами слово «КОЛОСОК». Одинаковые буквы Стёпка записывал одним и тем же цветом, разные – разным цветом. Сколько цветных карандашей понадобилось Стёпке, чтобы написать это слово?

В ответе запишите только число цветных карандашей.

Задание №8

В семье зайцев появилось потомство из 6 ушек. А в семействе бобров родились 4 маленьких хвостика.

Каких зверят появилось больше?

1. Зайчат больше, чем бобрят
2. Бобрят больше, чем зайчат
3. Одинаковое число зверят

В ответе укажи только номер выбранного варианта (1 или 2 или 3)

Задание №9


Бурундук Боря очень любит рисовать. Он нарисовал 4 больших и 5 маленьких деревьев. Семь деревьев он раскрасил.

Сколько еще деревьев осталось раскрасить Боре?

Задание №10

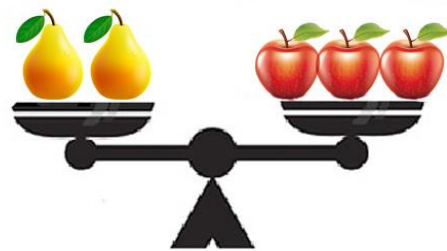
Ребята, помогите белочке Соне найти цифру, которая скрывается за бабочкой?

В ответе запишите только эту цифру.



Задание №11

Две груши весят столько, сколько весят три яблока. Сколько надо будет взять яблок, чтобы уравновесить четыре груши?



В ответе запиши только количество яблок

Задание №12

Лягушонок ИФ любит сидеть на розовой кувшинке. Лягушонок ДЮ никогда не выбирает ни розовую, ни голубую. На какой кувшинке должен сидеть лягушонок РИЧ?

1. Розовая кувшинка
2. Голубая кувшинка
3. Желтая кувшинка

В ответе укажи только номер выбранного варианта (1 или 2 или 3)



1. Розовая кувшинка 2. Голубая кувшинка 3. Желтая кувшинка