

**Международный
математический чемпионат
«Занимательная математика со зверятами»
(для дошкольников)**

Задания

Ответ должен быть представлен строго в виде **ОДНОГО ЧИСЛА** или **СЛОВА** (согласно условию задания) без кавычек, точек и других дополнительных символов. Неверно записанные ответы не учитываются.

Задание №1

Для аппликации Мышка разрезала мишуру в трёх местах. Сколько всего маленьких кусочков мишуры у неё получилось?

В ответе запиши полученное число

Задание №2

У Белочки в хозяйстве было 5 чашек.



А Мышка бежала, хвостиком вильнула и разбила 2 чашки. Сколько целых чашек осталось в доме?

В ответе запиши количество целых чашек

Задание №3

На дереве висели 10 шишек. Бельчата играли на дереве и сорвали ровно по одной шишке каждый. После этого на дереве осталось 7 шишек. Сколько Бельчат играли на дереве?

В ответе запиши число бельчат

Задание №4

Зайка и Ёжик очень любят зиму! Одно из их любимых занятий на зимней прогулке – лепить снеговика! Найди снеговика Зайки и Ёжика – такого же, как на образце.



В ответе укажи только номер выбранного варианта (1 или 2 или 3 или 4 или 5)

Задание №5

Возле домика тётушки Совы росло 5 ёлочек. Она посадила ещё 2 дуба и 3 ёлочки.

Сколько всего ёлочек стало возле дома тётушки Совы?

Задание №6

Кролик за день съедает на 2 морковки меньше, чем число дней в неделе. Сколько морковок Кролик съедает за день?

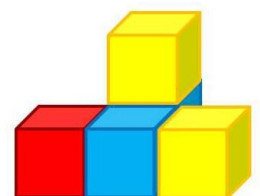
В ответе запиши число морковок

Задание №7

Начиная строительство теремка, зверята нарисовали его проект.


Сколько кубиков потребуется для строительства теремка?

В ответе запиши количество кубиков



Задание №8

Белочка и Ёжик часто любят зимами огнями. Совсем недавно они выглянули в окно, а там – салют. Определи, в каком порядке располагаются картинки, и продолжи план салюта.



Какая картинка окажется на месте знака вопроса.



В ответе укажи только номер выбранного варианта (1 или 2)

Задание №9

Ёжик написал цветными карандашами слово «МОРОЗ». Одинаковые буквы Ёжик записывал одним и тем же цветом, разные – разным цветом. Сколько цветных карандашей понадобилось Ёжику, чтобы написать это слово?

В ответе запишите только число карандашей

Задание №10

Тётушка Сова живёт во втором домике справа на рисунке. Покажи домик тётушки Совы.




В ответе укажи только номер домика (1 или 2 или 3 или 4 или 5)

Задание №11

В лесу начался математический снегопад!

Лисята выбежали на полянку и начали ловить снежинки. Они умели считать только до 9, поэтому смогли поймать только снежинки, на которых сумма чисел была *меньше* 10. Сколько снежинок поймали Лисята?

В ответе запиши число пойманных снежинок



Задание №12

Ёжик и Мышка родились в один год. Ёжик родился в феврале, а Мышка в декабре.

Кто из зверят старше?

1. Ёжик
2. Мышка

В ответе укажите только номер выбранного варианта (1 или 2)

Оценка ответов на вопросы конкурса:

- за каждый правильный ответ на задания с 1 по 8 – 8 баллов
- за каждый правильный ответ на задания с 9 по 12 – 9 баллов

Уважаемые ребята, родители и координаторы!

Мы будем очень благодарны Вам за оставленный отзыв о конкурсе.

Нам очень важно знать ваше мнение о конкурсных заданиях. Что нового вы узнали, участвуя в конкурсе? Какие задания показались лёгкими? А какие самыми сложными? Что вам не понравилось? Хотели бы вы ещё участвовать в подобных конкурсах?

Ждём все Ваши предложения, пожелания и замечания на наши электронные адреса:

mir-konkursov2008@yandex.ru и mir-konkursov2018@yandex.ru