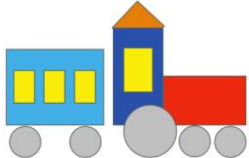






Ответы

Ответ должен быть представлен строго в виде ОДНОГО СЛОВА, БУКВЫ или ЧИСЛА (согласно условию задания) без кавычек, точек, орфографических ошибок. Некоторые вопросы содержат подсказку – буквы ответа. Неверно записанные ответы не учитываются.

| Задание №1   |   | Ответ        |
|--|---|--------------|
| <p><i>Математическая разминка</i></p> <p>Сколько кругов на рисунке?</p> <p><i>В ответе запиши количество кругов</i></p>  |    | <p>5</p>     |
| Задание №2   |   | Ответ        |
| <p><i>Весёлые ребусы</i></p> <p>Разгадай ребус. У тебя должно получиться название насекомого.</p> <p>— — — — б</p> <p><i>В ответе запиши получившееся слово</i></p>  |     | <p>Шмель</p> |
| Задание №3   |   | Ответ        |
| <p><i>Занимательная логика</i></p> <p>Бабушка живёт не в самом высоком доме, рядом с зелёным. Покажи домик бабушки.</p>  <p><i>В ответе укажи только номер домика бабушки (1 или 2 или 3)</i></p>   |   | <p>1</p>     |
| Задание №4   |   | Ответ        |
| <p><i>Любопытная зоология</i></p> <p>Настя собирает картинки с изображениями лесных животных. На какой из этих картинок изображено животное, которое не встретишь на Земле в наше время?</p>  <p><i>В ответе укажи только номер выбранного варианта (1 или 2 или 3 или 4)</i></p> |   | <p>3</p>     |
| Задание №5   |   | Ответ        |
| <p>Начиная строительство теремка, зверята нарисовали его проект.</p> <p>Сколько кубиков потребуется для строительства теремка?</p> <p><i>В ответе запиши количество кубиков</i></p>  |  | <p>5</p>     |

**Задание №6****Загадки окружающего мира**

Помоги Мишке найти на картинке его любимую ягоду – малину. В ответе запиши номер верной картинке.



*В ответе укажи только номер выбранного варианта (1 или 2 или 3 или 4)*

**Ответ****4****Задание №7****Азбука безопасности**

Найди на картинке знак пешеходного перехода.



*В ответе укажи только номер выбранного варианта (1 или 2 или 3)*

**Ответ****1****Задание №8****Игры с буквами и словами**

Потапыч – так в русских народных сказках называют медведя. Найди на картинке предмет, который начинается на эту же букву.



*В ответе укажи только номер выбранного варианта (1 или 2 или 3 или 4)*

**Ответ****4  
Перо****Задание №9****В мире профессий**

Отважный человек, совершающий космические полёты на орбиту земли и за её пределы.

1. Полицейский
2. Космонавт
3. Водолаз

*В ответе укажи только номер выбранного варианта (1 или 2 или 3)*

**Ответ****2  
Космонавт****Задание №10****Эти удивительные птицы**

Какая из этих птиц является одним из древнейших будильников, используемых человеком?



*В ответе укажи только номер выбранного варианта (1 или 2 или 3 или 4)*

**Ответ****3  
Петух**

| <b>Задание №11</b>   |   | <b>Ответ</b>  |
|--|---|---|
| <p align="center"><b>Лесные загадки</b></p> <p>Под каким номером изображен гриб, который носит название животного – лисичка? Напиши номер этого гриба в ответе.<br/><i>В ответе укажи только номер выбранного варианта (1 или 2 или 3)</i></p>   |     | <p align="center"><b>3</b><br/><b>Лисичка</b></p>   |
| <p align="center"><b>Задание №12</b></p>   |   | <b>Ответ</b>  |
| <p align="center"><b>Путешествие по сказкам</b></p> <p>Найди на картинках пожароопасного персонажа русских народных сказок.<br/><i>В ответе укажи только номер выбранного варианта (1 или 2 или 3 или 4)</i></p>   |     | <p align="center"><b>3</b><br/><b>Змей Горыныч</b></p>  |
| <p align="center"><b>Задание №13</b></p>   |   | <b>Ответ</b>  |
| <p align="center"><b>Игры со словами</b></p> <p>Сосчитай, сколько в нашем списке предметов, которые бывают полосатыми. Сколько полосатых предметов у тебя получилось?<br/><i>Малина, зебра, ворона, пешеходный переход, мандарин, арбуз, чай, тельняшка, тигр, помидор.</i><br/><i>В ответе запиши только количество полосатых предметов</i></p> |   | <p align="center"><b>5</b><br/><b>Зебра,</b><br/><b>пешеходный</b><br/><b>переход,</b><br/><b>арбуз, тигр,</b><br/><b>тельняшка</b></p> |
| <p align="center"><b>Задание №14</b></p>   |   | <b>Ответ</b>  |
| <p align="center"><b>Сказочная математика</b></p> <p>Курочка Ряба сложила снесенные 6 яичек пирамидкой. Так, что вверху было одно яичко, далее два... Сколько рядов было в этой пирамидке?<br/><i>В ответе запиши только число рядов</i></p>   |  | <p align="center"><b>3</b></p>  |
| <p align="center"><b>Задание №15</b></p>   |   | <b>Ответ</b>  |
| <p>На рисунке плоды в дедушкином погребе. Плоды разложены так, что на каждой полке они не повторяются. Какая плод окажется на месте вопросительного знака?</p>  <p><i>В ответе укажи только номер выбранного варианта (1 или 2 или 3)</i></p>                 |  | <p align="center"><b>3</b><br/><b>капуста</b></p>   |

### Оценка ответов на вопросы конкурса:

- за каждый правильный ответ на задания с 1 по 5 – 6 баллов
- за каждый правильный ответ на задания с 6 по 15 – 7 баллов

Уважаемые ребята, родители и координаторы!

Мы будем очень благодарны Вам за оставленный отзыв о конкурсе.

Нам очень важно знать ваше мнение о конкурсных заданиях. Что нового вы узнали, участвуя в конкурсе? Какие задания показались лёгкими? А какие самыми сложными? Что вам не понравилось? Хотели бы вы ещё участвовать в подобных конкурсах?

Ждём все Ваши предложения, пожелания и замечания на наши электронные адреса:

mir-konkursov2008@yandex.ru и mir-konkursov2018@yandex.ru