









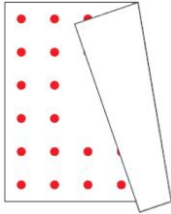


**Всероссийский интеллектуальный конкурс  
«Осенний марафон»  
(для учащихся 3-4 классов)**





**Мир конкурсов  
ЛИДЕР  
www.mir-konkursov.ru**

**Ответы**

Ответ должен быть представлен строго в виде **ОДНОГО СЛОВА**, **БУКВЫ** или **ЧИСЛА** (согласно условию задания) без кавычек, точек, орфографических ошибок. Некоторые вопросы содержат подсказку – буквы ответа. Неверно записанные ответы не учитываются.

<b>Задание №1</b>		<b>Ответ</b>
<p align="center"><i><b>Математическая разминка</b></i></p> <p>Зайчата делили морковку. Каждую из четырёх морковок разрезали на 3 кусочка. Сколько всего разрезов сделали Зайчата? <i>В ответе запиши общее количество разрезов</i></p>		<p><b>8</b></p>
<p align="center"><b>Задание №2</b></p> <p align="center"><i><b>Весёлые ребусы</b></i></p> <p>Разгадай ребус. У тебя должно получиться название школьной принадлежности. <i>В ответе запиши получившееся слово</i></p>	<p>1,2      Л=Н</p> 	<p><b>Линейка</b></p>
<p align="center"><b>Задание №3</b></p> <p align="center"><i><b>Занимательная логика</b></i></p> <p>Какое <b>наименьшее</b> количество рамок на рисунке справа нужно разрезать, чтобы все их расцепить? 1. 1 2. 2 3. 3 <i>В ответе укажи только номер выбранного варианта (1 или 2 или 3)</i></p>		<p><b>1</b></p>
<p align="center"><b>Задание №4</b></p> <p align="center"><i><b>Любопытная зоология</b></i></p> <p>Хозяйка медной горы в сказках П. П. Бажова превращалась в ящерицу. На какой картинке изображено это пресмыкающееся? <i>В ответе укажи только номер выбранного варианта (1 или 2 или 3 или 4)</i></p>		<p><b>1</b></p>
<p align="center"><b>Задание №5</b></p> <p align="center"><i><b>Сказочная математика</b></i></p> <p>Если у Буратино в кошельке такие монеты, сколькими способами можно собрать 10 рублей? <i>В ответе запиши количество способов</i></p>		<p><b>3</b></p>
<p align="center"><b>Задание №6</b></p> <p align="center"><i><b>Загадки окружающего мира</b></i></p> <p>Найди на картинках растение со следующими характеристиками: – я являюсь гордой обладательницей кочана; – иногда я бываю сахарной; – некоторые мои сорта при нагревании зёрен лопаются и становятся воздушными. <i>В ответе укажи только номер выбранного варианта (1 или 2 или 3 или 4 или 5)</i></p>		<p><b>2</b> <b>Кукуруза</b></p>

Задание №7		Ответ
<p align="center"><b>Азбука безопасности</b></p> <p>Люди придумали много сигналов, предупреждающих об опасности. Какой из знаков означает «<b>Высокое напряжение! Опасно для жизни!</b>»?</p> <p><i>В ответе укажи только номер выбранного варианта (1 или 2 или 3 или 4 или 5 или 6 или 7 или 8)</i></p>		<p align="center"><b>6</b></p>
<p align="center"><b>Задание №8</b></p>		<p align="center"><b>Ответ</b></p>
<p align="center"><b>Занимательный алфавит</b></p> <p>Девочка заменила каждую букву своего имени порядковым номером этой буквы в русском алфавите, получилось <b>11310191</b>.</p> <p><i>Запиши имя девочки в ответе</i></p>		<p align="center"><b>Алиса</b></p>
<p align="center"><b>Задание №9</b></p>		<p align="center"><b>Ответ</b></p>
<p align="center"><b>В мире профессий</b></p> <p>Ребята описывали профессию <b>повара</b>, какое слово <b>не подходит</b> для этой профессии?</p> <p align="center"><i>Половник, печь, аромат, кастрюля, метеор, вкус, фартук, борщ</i></p> <p><i>В ответе запиши лишнее слово</i></p>		<p align="center"><b>5</b> <b>метеор</b></p>
<p align="center"><b>Задание №10</b></p>		<p align="center"><b>Ответ</b></p>
<p align="center"><b>Найди закономерность</b></p> <p>Картинки расставили в определённом порядке (в виде закономерности). Подумай, какая картинка должна стоять вместо знака «?».</p> <p><i>В ответе укажи только номер выбранного варианта (1 или 2 или 3 или 4)</i></p>		<p align="center"><b>3</b> <b>Шляпа</b></p>
<p align="center"><b>Задание №11</b></p>		<p align="center"><b>Ответ</b></p>
<p align="center"><b>Сложная головоломка</b></p> <p>У Вари есть квадратный ковер. Вдоль каждой из его сторон нарисованы два ряда точек. Несмотря на то, что ковер сложился, закрыв часть рисунка, Варя хочет знать, сколько всего точек изображено на ковре.</p> <p><i>В ответе запиши только одно число</i></p>		<p align="center"><b>32</b></p>
<p align="center"><b>Задание №12</b></p>		<p align="center"><b>Ответ</b></p>
<p align="center"><b>Дары природы</b></p> <p>Вспоминай, какое растение укрывало главных героев от погони в сказке «Гуси-лебеди».</p> <p>Найди плоды этого растения на картинках.</p> <p><i>В ответе укажи только номер выбранного варианта (1 или 2 или 3 или 4 или 5)</i></p>		<p align="center"><b>3</b> <b>яблоки</b></p>
<p align="center"><b>Задание №13</b></p>		<p align="center"><b>Ответ</b></p>
<p align="center"><b>Игры со словами</b></p> <p>Из слогов изображённых предметов получается слово. Разгадай его и запиши в ответ.</p> <p><u>Подсказка:</u> цифрой указан номер слога в слове.</p> <p align="center">- - - - -</p> <p><i>В ответе запиши получившееся слово</i></p>		<p align="center"><b>Самолёт</b></p>

<b>Задание №14</b>		<b>Ответ</b>
<p align="center"><b>Математика вокруг нас</b></p> <p>У Васи дома живут хомячки и попугаи. Хомячков в 2 раза меньше, чем попугаев. А если бы хомячков было столько же, сколько сейчас есть попугаев, то всего получилось бы 16 животных. Сколько у Васи хомячков?</p> <p><i>В ответе запиши число хомячков</i></p>		<b>4</b>
<p align="center"><b>Задание №15</b></p> <p align="center"><b>Весёлый календарь</b></p> <p>Посмотри на картинку. Собери последние буквы названий предметов. Составь слово и узнаешь, какой месяц богат урожаями картофеля и моркови.</p>  <p><i>В ответе запиши получившееся слово</i></p>		<b>Сентябрь</b>
<p align="center"><b>Задание №16</b></p> <p>На рисунке плоды в дедушкином погребе. Плоды разложены так, что на каждой полке они не повторяются. Какая плод окажется на месте вопросительного знака?</p> <p><i>В ответе укажи только номер выбранного варианта (1 или 2 или 3 или 4)</i></p>		<b>1</b> <b>яблоко</b>
<p align="center"><b>Задание №17</b></p>		<b>Ответ</b>
<p align="center"><b>Путешествие по сказкам</b></p> <p>Кто является автором произведений про Незнайку и его друзей?</p> <ol style="list-style-type: none"> <li>1. Корней Чуковский</li> <li>2. Эдуард Успенский</li> <li>3. Шарль Перро</li> <li>4. Николай Носов</li> </ol> <p><i>В ответе укажи только номер выбранного варианта (1 или 2 или 3 или 4)</i></p>		<b>4</b> <b>Николай Носов</b>
<p align="center"><b>Задание №18</b></p>		<b>Ответ</b>
<p align="center"><b>Считаем треугольники</b></p> <p>Сколько всего треугольников на картинке?</p> <p><i>В ответе запиши общее число треугольников</i></p>		<b>12</b>

### Оценка ответов на вопросы конкурса:

- за каждый правильный ответ на задания с 1 по 8 – 5 баллов
- за каждый правильный ответ на задания с 9 по 18 – 6 баллов

Уважаемые ребята, родители и координаторы!

Мы будем очень благодарны Вам за оставленный отзыв о конкурсе.

Нам очень важно знать ваше мнение о конкурсных заданиях. Что нового вы узнали, участвуя в конкурсе? Какие задания показались лёгкими? А какие самыми сложными? Что вам не понравилось? Хотели бы вы ещё участвовать в подобных конкурсах?

Ждём все Ваши предложения, пожелания и замечания на наши электронные адреса:

mir-konkursov2008@yandex.ru и mir-konkursov2018@yandex.ru