





Ответы

Ответ должен быть представлен строго в виде ОДНОГО СЛОВА, БУКВЫ или ЧИСЛА (согласно условию задания) без кавычек, точек, орфографических ошибок. Некоторые вопросы содержат подсказку – буквы ответа. Неверно записанные ответы не учитываются.

| Задание №1   |   | Ответ   |
|--|---|---|
| <p><i>Математическая разминка</i></p> <p>Даша заплатила за три леденца 7 рублей. Цена каждого леденца – целое число, и все три цены различны. Сколько стоил самый дорогой леденец?</p> <p><i>В ответе запиши полученный результат</i></p>  |   | <p>4<br/>рубля</p>  |
| <p><i>Задание №2</i></p> <p><i>Весёлые ребусы</i></p> <p>Разгадай наш весенний ребус!</p> <p></p> <p><i>В ответе напиши получившееся слово</i></p>  |   | <p>Подснеж<br/>ик</p>   |
| <p><i>Задание №3</i></p> <p><i>Занимательная логика</i></p> <p>Вася, Петя и Гриша нарисовали геометрические фигуры: круг, треугольник и квадрат. У фигуры, которую нарисовал Вася, углов больше, чем у фигуры, которую нарисовал Петя. Гриша нарисовал фигуру без углов. Какую фигуру нарисовал Петя?</p> <p>1. Квадрат<br/>2. Круг<br/>3. Треугольник</p> <p><i>В ответе укажи только номер выбранного варианта (1 или 2 или 3)</i></p> | <p></p> | <p>3<br/>треугольни<br/>к</p> <p><i>Решение:</i><br/>Гриша нарисовал круг,<br/>Вася – квадрат, Петя -<br/>треугольник</p> |
| <p><i>Задание №4</i></p> <p><i>Любопытная зоология</i></p> <p>Из яйца не мог появиться ...</p> <p></p> <p><i>В ответе укажи только номер выбранного варианта (1 или 2 или 3 или 4)</i></p>  |   | <p>4<br/>Лягушка</p>  |
| <p><i>Задание №5</i></p> <p><i>Загадки окружающего мира</i></p> <p>Как называется дерево, на котором весной распускаются пушистые комочки?</p> <p>-----</p> <p><i>В ответе запиши название дерева</i></p>  | <p></p> | <p>Верба</p>  |

**Задание №6****Я открываю космос**

Найди на картинке портрет первой в мире женщины-космонавта.



1. СВЕТЛАНА САВИЦКАЯ



2. ВАЛЕНТИНА ТЕРЕШКОВА



3. ЕЛЕНА КОНДАКОВА

*В ответе напиши только номер выбранного варианта (1 или 2 или 3)*

**Ответ**

2  
Валентина  
Терешкова

**Задание №7****Праздники России**

Какому весеннему празднику соответствует наше описание?

*Один из самых интересных, долгожданных, весёлых и самых «вкусных» праздников в году. Блины – главное блюдо праздника. В старину разводили костры и жгли соломенное чучело – символ зимы.*

----- а

*В ответе запиши название весеннего праздника*

**Ответ**

Масленица

**Задание №8****Найди закономерность**

Гриша раскрашивает клетки по определённому правилу. Сколько клеток он раскрасит на четвёртом рисунке?



Рисунок 1




Рисунок 2



Рисунок 3

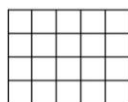


Рисунок 4

*В ответе запиши только одно число*

**Ответ**

15

**Задание №9****Путешествие по сказкам**

*Мой вопрос совсем не трудный,  
Он – про город Изумрудный.  
Кто там был правитель славный?  
Кто там был волшебник главный?*

-----

*В ответе запиши имя сказочного персонажа*

**Ответ**

Гудвин

**Задание №10****Азбука спорта**

Какой спортивный инвентарь понадобится для игры в баскетбол?



*В ответе укажи только номер выбранного варианта (1 или 2 или 3 или 4)*

**Ответ**

1

**Задание №11****Игры со словами**

В слове **УДАР** переставили буквы и получили **РУДА**. Такая же перестановка букв была сделана в слове **СЕЛО**. Какое новое слово при этом получилось?

*В ответе запиши получившееся слово*

**Ответ****Осел****Задание №12****Увлекательная география**

Крупнейший остров России, который расположен у восточного побережья Азии. Назови этот остров.

— а — — — —

*В ответе запиши название острова*

**Ответ****Сахалин****Задание №13****Весёлые ребусы**

Реши ребус.



Разгаданное слово – это...

1. Название страны
2. Название растения
3. Название профессии
4. Название устройства связи

*В ответе укажи только номер выбранного варианта (1 или 2 или 3 или 4)*

**Ответ**

**4**  
**Название устройства связи**

**Задание №14****Школьные загадки**

На рисунке изображена открытая тетрадка. В ее обложке два окошка. Какие три картинки будут видны, если тетрадку закрыть?



- 1 2 3 4

*В ответе укажи только номер выбранного варианта (1 или 2 или 3 или 4)*

**Ответ****2****Задание №15****Математика вокруг нас**

1 марта у Маши было 18 подписчиков, а у Даши в 3 раза больше. Ежедневно у каждой девочки прибавлялось по 2 подписчика. Через несколько дней у Маши стало 36 подписчиков, а у Даши в 2 раза больше. Какого числа это произошло?




*В ответе запиши только число без указания месяца*

**Ответ**

**10**  
**марта**

**Решение:**

10 марта у Маши будет 36 подписчиков, а у Даши 72 подписчика.

| <b>Задание №16</b>  |   | <b>Ответ</b>                              |
|---|---|---|
| <p><b><i>Животные в пословицах и поговорках</i></b></p> <p>Этот речной обитатель стал героем многих русских пословиц и поговорок. Из них можно узнать, что:</p> <ul style="list-style-type: none"> <li>– <b>ОН</b> пятится назад;</li> <li>– иногда <b>ОН</b> бывает красным;</li> <li>– никто не знает, где <b>ОН</b> зимует;</li> <li>– все ждут, когда <b>ОН</b> на горе свистнет.</li> </ul> <p>Найди <b>ЕГО</b> изображение.</p> <div style="text-align: center;">  </div> <p><b><i>В ответе укажи только номер выбранного варианта (1 или 2 или 3 или 4)</i></b></p> |   | <p><b>4</b><br/><b><i>Рак</i></b></p>     |
| <b>Задание №17</b>  |   | <b>Ответ</b>                              |
| <p><b><i>Путешествие по России</i></b></p> <p>Выбери на картинке русский народный музыкальный инструмент, о котором идет речь.</p> <p><i>В руки ты ее возьмешь,<br/>То растянешь, то сожмешь!<br/>Звонкая, нарядная,<br/>Русская, двухрядная.<br/>Заиграет, только тронь,<br/>Как зовут ее?</i></p> <p><b><i>В ответе укажи только номер выбранного варианта (1 или 2 или 3 или 4)</i></b></p>  |     | <p><b>3</b><br/><b><i>Гармонь</i></b></p> |
| <b>Задание №18</b>  |   | <b>Ответ</b>                              |
| <p><b><i>Весенние первоцветы</i></b></p> <p><i>Он – цветочный принц-поэт,<br/>В шляпу жёлтую одет.<br/>Про весну сонет на бис<br/>Прочитает нам ...</i></p> <p>О каком цветке идёт речь в загадке?</p> <ol style="list-style-type: none"> <li>1. Медуница</li> <li>2. Подснежник</li> <li>3. Нарцисс</li> <li>4. Тюльпан</li> </ol> <p><b><i>В ответе укажи только номер выбранного варианта (1 или 2 или 3 или 4)</i></b></p>  |  | <p><b>3</b><br/><b><i>Нарцисс</i></b></p> |

### **Оценка ответов на вопросы конкурса:**

- за каждый правильный ответ на задания с 1 по 8 – 5 баллов
- за каждый правильный ответ на задания с 9 по 18 – 6 баллов

Уважаемые ребята, родители и координаторы!

Мы будем очень благодарны Вам за оставленный отзыв о конкурсе.

Нам очень важно знать ваше мнение о конкурсных заданиях. Что нового вы узнали, участвуя в конкурсе? Какие задания показались лёгкими? А какие самыми сложными? Что вам не понравилось? Хотели бы вы ещё участвовать в подобных конкурсах?

Ждём все Ваши предложения, пожелания и замечания на наши электронные адреса:

mir-konkursov2008@yandex.ru и mir-konkursov2018@yandex.ru