

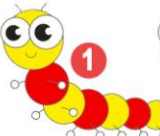
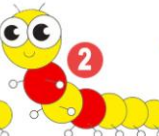
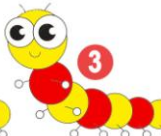
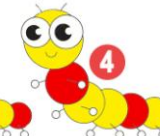








Ответы

Ответ должен быть представлен строго в виде **ОДНОГО ЧИСЛА**, **БУКВЫ** или **СЛОВА** (согласно условию задания) без кавычек, точек, орфографических ошибок. Неверно записанные ответы не учитываются.

Задание №1		Ответ
<p>В каком гнезде меньше птенцов?</p> <div style="display: flex; justify-content: space-around; align-items: center;"> <div style="text-align: center;">  <p>1 гнездо</p> </div> <div style="text-align: center;">  <p>2 гнездо</p> </div> </div> <p>1. в первом 2. во втором 3. одинаково</p> <p><i>В ответе укажи только номер выбранного варианта (1 или 2 или 3)</i></p>		<p>2</p>
<p>У какой гусеницы столько же красных полосок, сколько их на башне?</p> <div style="display: flex; justify-content: space-around; align-items: center;"> <div style="text-align: center;">  <p>1</p> </div> <div style="text-align: center;">  <p>2</p> </div> <div style="text-align: center;">  <p>3</p> </div> <div style="text-align: center;">  <p>4</p> </div> </div> <div style="text-align: center; margin-top: 20px;">  </div> <p><i>В ответе укажи только номер выбранного варианта (1 или 2 или 3 или 4)</i></p>		<p>1</p>
<p>Медведь готовит Машеньке бутерброд. На ХЛЕБ он положил кусочек СЫРА, а затем ПОМИДОР. Какой бутерброд у него получился?</p> <div style="display: flex; justify-content: space-around; align-items: center;"> <div style="text-align: center;">  <p>1</p> </div> <div style="text-align: center;">  <p>2</p> </div> <div style="text-align: center;">  <p>3</p> </div> <div style="text-align: center;">  <p>4</p> </div> </div> <p><i>В ответе укажи только номер выбранного варианта (1 или 2 или 3 или 4)</i></p>		<p>3</p>
<p style="text-align: center; font-size: 2em; color: #e67e22;">ВОНОРА</p> <p>Какие две буквы нужно поменять местами, чтобы получилось слово ВОРОНА?</p> <p><i>В ответе запиши только две буквы</i></p>		<p>РН НР</p>
<p>Петя принёс в корзинке 2 белых гриба, 3 сыроежки, 5 жёлудей, 4 шишки и 5 лисичек.</p> <p><i>Сколько грибов было в корзинке у Пети?</i></p>		<p>10</p> <p><small>Решение: 2+3+5=10</small></p>

Задание №6

У обезьянки апельсины, а у ёжика – яблоки. У кого из животных фруктов больше?



1. у обезьянки
2. у ёжика
3. одинаково

В ответе укажи только номер выбранного варианта (1 или 2 или 3)

Ответ

2
у ёжика

Задание №7

У Никиты были вот такие наклейки:



У Насти были вот такие наклейки:



А у Софьи вот такие наклейки:



Кто из детей сделал эту аппликацию



1. Никита
2. Настя
3. Софья

В ответе укажи только номер выбранного варианта (1 или 2 или 3)

Ответ

1
Никита

Задание №8

Ёжику нравится гулять по лесу. Сегодня на прогулке он увидел кое-что интересное. Угадай, что это, если это съедобное, и не растёт на дереве.





В ответе укажи только номер выбранного варианта (1 или 2 или 3 или 4)


Ответ

2
Гриб

Задание №9

Лесные загадки

У лапки синички Зиньки вот такой след: . Одним прыжком синичка Зинька оставляет 2 следа: . Посмотри на тропинку и посчитай, сколько прыжков сделала синичка Зинька до кормушки.



1. 2 прыжка
2. 3 прыжка
3. 4 прыжка

В ответе укажи только номер выбранного варианта (1 или 2 или 3)

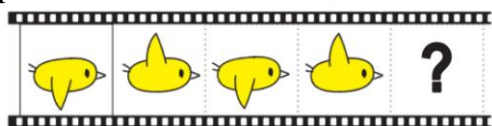
Ответ

3
4 прыжка

Задание №10


Дорисуй мультик

Продолжи ряд.



Какая картинка окажется на месте вопросительного знака?

В ответе укажи только номер выбранного варианта (1 или 2)

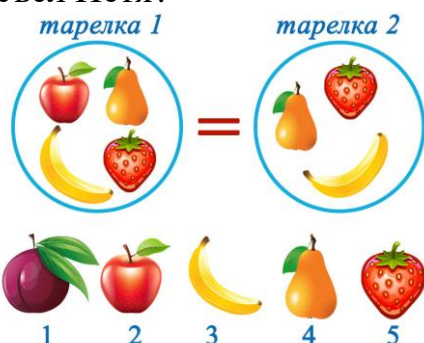


Ответ

1

Задание №11

На двух тарелках лежали одинаковые фрукты. Петя съел один фрукт, который лежал на второй тарелке. Какой фрукт съел Петя?



В ответе укажи только номер выбранного варианта (1 или 2 или 3 или 4 или 5)

Ответ

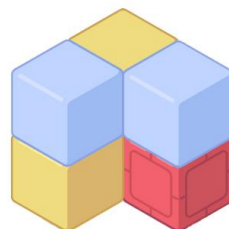
2
Яблоко

Задание №12

В постройке на картинке жёлтых кубиков столько же, сколько и красных. Какой кубик спрятан?




1. Жёлтый
2. Красный
3. Голубой

В ответе укажи только номер выбранного варианта (1 или 2 или 3)



Ответ

2
Красный

Задание №13		Ответ
<p>Петя построил башню как на рисунке справа. Какие детали оказались лишними?</p> <p> 1  2  3  4  </p> <p><i>В ответе укажи только номер выбранного варианта (1 или 2 или 3 или 4)</i></p>		3
Задание №14		Ответ
<p>Винни-Пух толще Кролика, а Пятачок стройнее Кролика. Двое вылезли из норы, а один застрял. Кто застрял?</p> <p>1. Кролик 2. Винни-Пух 3. Пятачок</p> <p><i>В ответе укажи только номер выбранного варианта (1 или 2 или 3)</i></p>		2 Винни-Пух

Оценка ответов на вопросы конкурса:

- за каждый правильный ответ на задания с 1 по 12 – 7 баллов
- за каждый правильный ответ на задания с 13 по 14 – 8 баллов

Уважаемые ребята, родители и координаторы!

Мы будем очень благодарны Вам за оставленный отзыв о конкурсе.

Нам очень важно знать ваше мнение о конкурсных заданиях. Что нового вы узнали, участвуя в конкурсе? Какие задания показались лёгкими? А какие самыми сложными? Что вам не понравилось? Хотели бы вы ещё участвовать в подобных конкурсах?

Ждём все Ваши предложения, пожелания и замечания на наши электронные адреса:

mir-konkursov2008@yandex.ru и mir-konkursov2018@yandex.ru