


**IV Международная олимпиада
по окружающему миру
«Моя планета. Природа и её обитатели»
(для учащихся 4 классов)**

Ответы

Ответ должен быть представлен строго в виде **ОДНОГО СЛОВА, БУКВЫ** или **ЧИСЛА** (согласно условию задания) без кавычек, точек, орфографических ошибок. Некоторые вопросы содержат подсказку – буквы ответа. Букву «ё» можно писать как «е» или как «е». Неверно записанные ответы не учитываются.

Задание №1

Хозяйка медной горы в сказках П. П. Бажова превращалась в ящерицу. На какой картинке изображено это пресмыкающееся?




В ответе укажи только номер выбранного варианта (1 или 2 или 3 или 4)

Ответ

**1
Ящерица**

Задание №2

Чтобы сориентироваться в лесу, надо знать, что с северной стороны древесная кора более грубая и тёмная. Лучше всего это наблюдается у сосны, осины и берёзы. **Выбери на рисунке сосну.**



В ответе укажи только номер выбранного варианта (1 или 2 или 3 или 4)

Ответ

**1
Сосна**

Задание №3

С наступлением холодов птицы прилетают поближе к жилищам людей.

Что же заставляет птиц прилетать зимой в городскую среду?

1. Любопытство
2. Голод и холод
3. В лесу становится скучно, потому что все птицы улетели на юг

В ответе укажи только номер выбранного варианта (1 или 2 или 3)

Ответ

2

Задание №4

Какая из этих птиц живёт не в лесу?

1	2	3	4
Сова	Дятел	Чайка	Кукушка

В ответе укажи только номер выбранного варианта (1 или 2 или 3 или 4)

Ответ

**3
Чайка**

Задание №5

Этот дикий представить кошачьих не встречается в России.

1	2	3	4
Тигр	Лев	Рысь	Ирбис (Барс)

В ответе укажи только номер выбранного варианта (1 или 2 или 3 или 4)

Ответ

2
Лев

Задание №6

А как называют реку, впадающую в другую реку?

1. Приток
2. Исток
3. Устье

В ответе укажи только номер выбранного варианта (1 или 2 или 3)

Ответ

1
Приток

Задание №7

Среди птиц в нашем списке только одна умеет летать. Какая?

1. Журавль	3. Страус
2. Киви	4. Казуар

В ответе укажи только номер выбранного варианта (1 или 2 или 3 или 4)

Ответ

1
Журавль

Задание №8

В русской народной сказке «Лиса и заяц» Таня прочитала: «Жили-были лиса да заяц. У лисы была избёнка ледяная, у зайца – лубяная». Таня задумалась, а где в лесу живёт лиса? Найди в списке название лесного жилища настоящей, а не сказочной лисы.

Гнездо, дупло, берлога, нора, хатка, улей

В ответе запиши только одно слово

Ответ

Нора

Задание №9

Растения, как и все живые существа на нашей планете, дышат. Листья – это один из органов их дыхания. Пыль, оседающая на листиках, препятствует дыханию растений. А если листики чистые, то им дышится легко. Какое явление природы улучшает дыхание растений, делая листья чистыми?

1. Туман
2. Дождь
3. Иней

В ответе укажи только номер выбранного варианта (1 или 2 или 3)

Ответ

2
Дождь

Задание №10

Самый большой по площади и глубине океан на Земле.

В ответе запиши название океана

Ответ

Тихий океан

Задание №11

И встал Айболит, побежал Айболит.
По полям, по лесам, по лугам он бежит.
И одно только слово твердит Айболит:
«Лимпопо, Лимпопо, Лимпопо!»

Лимпопо – это...

1. Название животного
2. Название горы
3. Название реки


В ответе укажи только номер выбранного варианта (1 или 2 или 3)

Ответ

3
Название
реки

Задание №12

Выбери домашнее животное народов тундры.



В ответе укажи только номер выбранного варианта (1 или 2 или 3 или 4)

Ответ

2
Олень

Задание №13

«У лукоморья дуб зелёный...» – так начинается поэма «Руслан и Людмила». А как выглядит плод дуба? Найди его на картинке.



В ответе укажи только номер выбранного варианта (1 или 2 или 3 или 4)

Ответ

1
Желудь

Задание №14

Самое глубокое озеро в мире и самый большой пресный водоём на планете.

В ответе запиши название озера

Ответ

Байкал

Задание №15

На рисунке скрыт персонаж из сказки В. Гаршина, который передвигается непривычным для себя способом. Скорее всего, и в реальности утки смогли бы покатать его по воздуху. Кто этот персонаж?

1	2	3	4
Мышка	Белка	Муравей	Лягушка

В ответе укажи только номер выбранного варианта (1 или 2 или 3 или 4)

**Ответ**

4
Лягушка

Задание №16

Для чего нужен компас?

1. Для измерения температуры тела
2. Для измерения длины
3. Для определения сторон горизонта

В ответе укажи только номер выбранного варианта (1 или 2 или 3)

Ответ

3

Задание №17

«Стройная тень скользнула в кольцо волков. Это была Багира, чёрная ..., вся чёрная, как чернила, но с пятнами, видными как водяные клейма при известном освещении».

Багира – это ...

1	2	3	4
Волчица	Тигрица	Львица	Пантера

В ответе укажи только номер выбранного варианта (1 или 2 или 3 или 4)

Ответ

4
Пантера

Задание №18

Посмотри на картинку и выбери из предложенных ниже вариантов верное расположение птиц (по порядку изображения на картинке).



1. Воробей – грач – лебедь – пеликан
2. Воробей – лебедь – пеликан – грач
3. Лебедь – грач – воробей – пеликан

В ответе укажи только номер выбранного варианта (1 или 2 или 3)

Ответ

1

Оценка ответов на вопросы конкурса:

- за каждый правильный ответ на задания с 1 по 8 – 5 баллов
- за каждый правильный ответ на задания с 9 по 18 – 6 баллов

Уважаемые ребята, родители и координаторы!

Мы будем очень благодарны Вам за оставленный отзыв о конкурсе.

Нам очень важно знать ваше мнение о конкурсных заданиях. Что нового вы узнали, участвуя в конкурсе? Какие задания показались лёгкими? А какие самыми сложными? Что вам не понравилось? Хотели бы вы ещё участвовать в подобных конкурсах?

Ждём все Ваши предложения, пожелания и замечания на наши электронные адреса:

mir-konkursov2008@yandex.ru и mir-konkursov2018@yandex.ru