




II Международная олимпиада по логике  
«Путешествие в Мир логики»  
(для учащихся 1-2 классов)

Мир конкурсов  
ЛИДЕР  
www.mir-konkursov.ru


Ответы

Ответ должен быть представлен строго в виде **ОДНОГО ЧИСЛА** или **СЛОВА** (согласно условию задания) без кавычек, точек и других дополнительных символов. Неверно записанные ответы не учитываются.

<b>Задание №1</b>		<b>Ответ</b>
Маша разрежала ленту в трёх местах. Сколько маленьких кусочков ленты у нее получилось? <i>В ответе запиши число кусочков</i>		<b>4</b>
<b>Задание №2</b>		<b>Ответ</b>
В семье зайчат появилось потомство из 12 ушек. Сколько же маленьких зайчат появилось на свет? <i>Запишите число зайчат в ответе</i>		<b>6</b>
<b>Задание №3</b>		<b>Ответ</b>
На рисунке три треугольные рамки, скрепленные друг с другом. Какую рамку нужно разрезать, чтобы расцепить все рамки? <i>1. жёлтую</i> <i>2. синюю</i> <i>3. красную</i> <i>В ответе укажи только номер выбранного варианта (1 или 2 или 3)</i>		<b>2</b> <b>синюю</b>
<b>Задание №4</b>		<b>Ответ</b>
В тарелке лежат яблоки. Если Матвей и две его сестрёнки возьмут по 2 яблока, то ещё останется 1 яблоко. Сколько яблок лежит в тарелке? <i>В ответе запиши число яблок в тарелке</i>		<b>7</b>
<b>Задание №5</b>		<b>Ответ</b>
Какая по счёту окажется роза, если считать цветы справа.  <i>В ответе запиши номер розы, если считать цветы справа</i>		<b>6</b>
<b>Задание №6</b>		<b>Ответ</b>
Сейчас время года – весна. А какое время года будет ровно через год? <i>1. зима</i> <i>2. весна</i> <i>3. лето</i> <i>4. осень</i> <i>В ответе укажи только номер выбранного варианта (1 или 2 или 3 или 4)</i>		<b>2</b> <b>весна</b>

**Задание №7**

Два одинаковых ведра заполнено плодами. Первое ведро заполнено грушами, а второе ведро заполнено клубникой. В каком ведре поместилось больше плодов?



*В ответе запиши только номер ведра (1 или 2)*

**Ответ****2****Задание №8**

У Алисы есть несколько разноцветных шаров: синие, красные, белые и зелёные шары. Известно, что среди них: 3 красных и столько же синих. Белых – больше, чем зелёных, но меньше, чем красных. Сколько всего шаров у Алисы?

*В ответе запиши число шаров у Алисы*

**Ответ****9****Решение:**

Синих шаров=3

Красных шаров =3

Если белых больше, чем

зелёных, но меньше, чем

красных, то белых =2,

зелёных=1

Значит всего: 3+3+2+1=9

**Задание №9**

Разложи все фрукты на тарелки так, чтобы цвет фрукта НЕ совпадал с цветом тарелки. Какой фрукт окажется в красной тарелке?



1. лимон
2. яблоко
3. слива

*В ответе запиши номер фрукта (1 или 2 или 3)*

**Ответ****1  
лимон****Задание №10**

Маша наблюдала за птицами. На ветке дерева сидели 5 сорок и 3 воробья. Начался дождик, и 6 птичек улетели. Была ли среди улетевших птиц хоть одна сорока?

1. да
2. нет
3. нельзя ответить


*В ответе укажите только номер выбранного варианта (1 или 2 или 3)*



**Ответ****1  
да****Задание №11**

Какая фигура принадлежит группе фигур на картинке справа?



*В ответе укажи только номер выбранного варианта (1 или 2 или 3 или 4)*

**Ответ****1  
Круг**

<b>Задание №12</b>		<b>Ответ</b>
<p>Оля пришла в школу раньше, чем Марина. А Марина пришла в школу позже, чем Алиса. Кто из девочек пришёл в школу последним?</p> <p>1. Оля 2. Марина 3. Алиса</p> <p><i>В ответе укажи только номер выбранного варианта (1 или 2 или 3)</i></p>		<p><b>2</b> <b>Марина</b></p>
<b>Задание №13</b>		<b>Ответ</b>
<p>Бабушка купила Марине подарок. Коробка с подарком обладает тремя свойствами:</p> <p>1) она синяя; 2) она не круглая; 3) у нее есть бантик.</p> <p>Найди на картинке коробку с подарком для Марины.</p> <div style="text-align: center;">  </div> <p><i>В ответе запиши номер коробки (1 или 2 или 3 или 4 или 5)</i></p>		<p><b>4</b></p>
<b>Задание №14</b>		<b>Ответ</b>
<p>Ребята, посмотрите на картинку. Что весит меньше – одно яблоко или один лимон?</p> <p>1. Яблоко 2. Лимон 3. Одинаково</p> <p><i>В ответе укажите только номер выбранного варианта (1 или 2 или 3)</i></p>		<p><b>2</b> <b>Лимон</b></p>

### Оценка ответов на вопросы олимпиады:

- за каждый правильный ответ на задания с 1 по 12 – 7 баллов
- за каждый правильный ответ на задания с 13 по 14 – 8 баллов

Уважаемые ребята, родители и координаторы!

Мы будем очень благодарны Вам за оставленный отзыв о конкурсе.

Нам очень важно знать ваше мнение о конкурсных заданиях. Что нового вы узнали, участвуя в конкурсе? Какие задания показались лёгкими? А какие самыми сложными? Что вам не понравилось? Хотели бы вы ещё участвовать в подобных конкурсах?

Ждём все Ваши предложения, пожелания и замечания на наши электронные адреса:

mir-konkursov2008@yandex.ru и mir-konkursov2018@yandex.ru