







Международная олимпиада
по математике «Лидер-2024»
(для дошкольников)

Ответы

Ответ должен быть представлен строго в виде **ОДНОГО ЧИСЛА** или **СЛОВА** (согласно условию задания) без кавычек, точек и других дополнительных символов. Неверно записанные ответы не учитываются.

Задание №1		Ответ
<p>Посмотрите на картинку. Сколько зайчат смотрят на медвежонка?</p>  <p><i>В ответе запиши число зайчат, смотрящих на медвежонка</i></p>		3
Задание №2		Ответ
<p>У Маши 3 пары варежек. Сколько варежек у Маши на правую руку?</p> <p><i>В ответе запиши число варежек на правую руку</i></p>		3
Задание №3		Ответ
<p>В тарелке лежали 10 мандаринов. Бабушка разрешила внукам взять по 1 мандарину. После этого в тарелке осталось 7 мандаринов. Сколько внуков у бабушки?</p> <p><i>В ответе запиши число внуков у бабушки</i></p>		3
Задание №4		Ответ
<p>Сколько кругов надо дорисовать, чтобы их стало столько же, сколько треугольников на картинке?</p> <p><i>Запиши в ответе число кругов, которые нужно дорисовать</i></p>		2
Задание №5		Ответ
<p>Белочка собрала 2 красных и 4 жёлтых яблока. Ей нужно разложить яблоки в корзиночки. Сколько корзиночек ей понадобится, если в одну корзиночку помещается 3 яблочка?</p> <p><i>В ответе запиши число корзиночек</i></p>		2
Задание №6		Ответ
<p>Каким набором игрушек нарядили ёлку?</p>  <p><i>В ответе укажи только номер выбранного варианта (1 или 2 или 3)</i></p>		1

Задание №7		Ответ
<p>Петя и Вася прыгали по мокрому песку на одной ножке и при каждом прыжке оставляли на песке следы. Петя прыгал на левой ноге, а Вася – на правой.</p> <p>Кто из мальчиков сделал больше прыжков?</p> <p>1. Петя 2. Вася 3. Одинаково</p> <p><i>В ответе укажи только номер выбранного варианта (1 или 2 или 3)</i></p>		<p>2</p>
Задание №8		Ответ
<p>На пальме сидели 2 попугая, 3 обезьянки и 2 орла.</p> <p>Сколько всего у них крыльев?</p> <p><i>В ответе запиши общее число крыльев</i></p>		<p>8</p>
Задание №9		Ответ
<p>В коробке лежат ёлочные шары двух цветов. Половина из них – красные, остальные 3 – жёлтые.</p> <p>Сколько шаров лежит в коробке?</p> <p><i>В ответе запиши полученное число</i></p>		<p>6</p>
Задание №10		Ответ
<p>Какой карандаш не зелёный, не самый длинный и не самый короткий?</p> <p>1  2  3  4 </p> <p><i>В ответе укажи только номер карандаша (1 или 2 или 3 или 4)</i></p>		<p>4 красный</p>
Задание №11		Ответ
<p>Даша умеет выговаривать все буквы, кроме «М» и «Ш». Сколько всего чисел от 1 до 10 включительно сможет правильно произнести Даша?</p> <p><i>В ответе запиши количество чисел, которые сможет правильно произнести Даша</i></p>		<p>7</p> <p><i>Решение:</i> Даша сможет правильно произнести следующие числа: 1, 2, 3, 4, 5, 9, 10</p>
Задание №12		Ответ
<p>На картинке три ёлки. Найди ёлку Марины, если известно, что на ней 4 красных шарика и 4 голубых сосульки.</p> <p><i>В ответе укажи номер ёлки Марины (1 или 2 или 3)</i></p>		<p>2</p>

Оценка ответов на вопросы конкурса:

- за каждый правильный ответ на задания с 1 по 8 – 8 баллов

- за каждый правильный ответ на задания с 9 по 12 – 9 баллов

Уважаемые ребята, родители и координаторы!

Мы будем очень благодарны Вам за оставленный отзыв о конкурсе.

Нам очень важно знать ваше мнение о конкурсных заданиях. Что нового вы узнали, участвуя в конкурсе? Какие задания показались лёгкими? А какие самыми сложными? Что вам не понравилось? Хотели бы вы ещё участвовать в подобных конкурсах?

Ждём все Ваши предложения, пожелания и замечания на наши электронные адреса:

mir-konkursov2008@yandex.ru и mir-konkursov2018@yandex.ru