



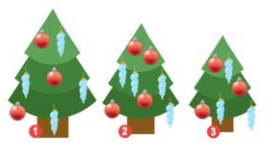


**Международная олимпиада
по математике «Лидер-2024»
(для учащихся 1 классов)**

Ответы

Ответ должен быть представлен строго в виде **ОДНОГО ЧИСЛА** или **СЛОВА** (согласно условию задания) без кавычек, точек и других дополнительных символов. Неверно записанные ответы не учитываются.

Задание №1		Ответ
У Маши 3 пары варежек. Сколько варежек у Маши на левую руку? <i>В ответе запиши число варежек на левую руку</i>		3
Задание №2		Ответ
Одинаковым фруктам соответствуют одинаковые цифры. Разным фруктам – разные цифры. Решите пример на картинке. Какая цифра скрывается за яблоком?  <i>В ответе запиши только цифру за яблоком</i>		6
Задание №3		Ответ
На столе лежали 10 мандаринов. Бабушка разрешила внукам взять по 1 мандарину. После этого на столе осталось 6 мандаринов. Сколько внуков у бабушки? <i>В ответе запиши число внуков у бабушки</i>		4
Задание №4		Ответ
Сколько кругов надо дорисовать, чтобы их стало столько же, сколько треугольников на картинке?  <i>Запиши в ответе число кругов, которые нужно дорисовать</i>		2
Задание №5		Ответ
Белочка собрала 3 красных и 4 жёлтых яблока. Ей нужно разложить яблоки в корзиночки. Сколько корзиночек ей понадобится, если в одну корзиночку помещается 4 яблочка? <i>В ответе запиши число корзиночек</i>		2
Задание №6		Ответ
Петя и Вася прыгали по мокрому песку на одной ножке и при каждом прыжке оставляли на песке следы. Петя прыгал на левой ноге, а Вася – на правой. Кто из мальчиков сделал больше прыжков? 1. Петя 2. Вася 3. Одинаково <i>В ответе укажи только номер выбранного варианта (1 или 2 или 3)</i>		2

Задание №7		Ответ
<p>В коробке лежат ёлочные шары двух цветов. Половина из них – красные, остальные 4 – жёлтые. Сколько шаров лежит в коробке?</p> <p><i>В ответе запиши полученное число</i></p>		8
Задание №8		Ответ
<p>У Васи было две монетки 5 рублей и 10 рублей. Он купил тетрадь за 5 рублей и ручку за 7 рублей. Сколько денег осталось у Васи?</p> <p><i>В ответе запиши остаток денег у Васи</i></p>		3 рубля
Задание №9		Ответ
<p>Маша рисовала вазу с цветами. Так получилось, что цветов на рисунке больше, чем крыльев у 3 воробьев, но меньше, чем лап у 2 кошек.</p> <p><i>Сколько цветов нарисовала Маша?</i></p>		<p style="text-align: center;">7</p> <p><i>Решение:</i> Крыльев у 3 воробьев = 6 Лап у 2 двух кошек = 8 Значит, цветов на рисунке 7</p>
Задание №10		Ответ
<p>Бабочка, стрекоза и пчела сели на разные цветы: ромашку, колокольчик и одуванчик. Стрекоза села не на одуванчик. Бабочка села не на ромашку и не на одуванчик.</p> <p>На какой цветок села пчела?</p> <ol style="list-style-type: none"> 1. ромашка 2. колокольчик 3. одуванчик <p><i>В ответе укажи только номер выбранного варианта (1 или 2 или 3)</i></p>		<p style="text-align: center;">3 одуванчик</p> <p><i>Решение:</i> Бабочка села на колокольчик. Стрекоза села на ромашку. Значит, пчела села на одуванчик</p>
Задание №11		Ответ
<p>Даша умеет выговаривать все буквы, кроме «М» и «Ш». Сколько всего чисел от 1 до 20 включительно сможет правильно произнести Даша?</p> <p><i>В ответе запиши количество чисел, которые сможет правильно произнести Даша</i></p>		<p style="text-align: center;">14</p> <p><i>Решение:</i> Даша сможет правильно произнести следующие числа: 1, 2, 3, 4, 5, 9, 10, 11, 12, 13, 14, 15, 19, 20.</p>
Задание №12		Ответ
<p>Вика, Даша и Маша наряжали разные ёлочки. У Вики и Маши на ёлочке по 3 красных шарика. У Даши и Маши – по 4 голубых сосульки.</p> <p><i>Кто из девочек наряжал ёлку №2?</i></p> <ol style="list-style-type: none"> 1. Вика 2. Даша 3. Маша <p><i>В ответе укажи только номер выбранного варианта (1 или 2 или 3)</i></p>		2 Даша

Оценка ответов на вопросы конкурса:

- за каждый правильный ответ на задания с 1 по 8 – 8 баллов
- за каждый правильный ответ на задания с 9 по 12 – 9 баллов

Уважаемые ребята, родители и координаторы!

Мы будем очень благодарны Вам за оставленный отзыв о конкурсе.

Нам очень важно знать ваше мнение о конкурсных заданиях. Что нового вы узнали, участвуя в конкурсе? Какие задания показались лёгкими? А какие самыми сложными? Что вам не понравилось? Хотели бы вы ещё участвовать в подобных конкурсах?

Ждём все Ваши предложения, пожелания и замечания на наши электронные адреса:

mir-konkursov2008@yandex.ru и mir-konkursov2018@yandex.ru