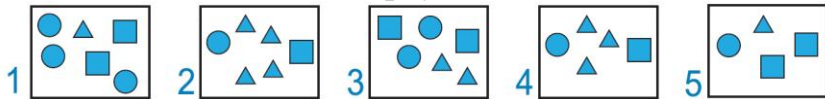


Ответы

Ответ должен быть представлен строго в виде **ОДНОГО ЧИСЛА**, **БУКВЫ** или **СЛОВА** (согласно условию задания) без кавычек, точек, орфографических ошибок. Неверно записанные ответы не учитываются.

Задание №1

Ребята, помогите Белочке определить, в какой коробке находится больше всего треугольников?



В ответе запиши только номер верной коробки (1 или 2 или 3 или 4 или 5)

Ответ

2

Задание №2

Зверята соорудили ледяную горку со ступеньками. Какая по счёту ступенька будет посередине, если всего на горке 5 ступеней?

В ответе запиши номер этой ступеньки.

В ответе запиши номер средней ступеньки

Ответ

3

Задание №3

Волчонок любит кататься на лыжах и придумывать математические примеры.

Какую цифру Волчонок обозначил своим изображением?

В ответе запиши цифру, спрятавшуюся под Волчонком



Ответ

4

Задание №4

Мама Белка выдала на завтрак Бельчатам яблоки. Всего она выдала им 6 яблок. Два Бельчонка съели по два яблока, остальные – по одному.

Сколько всего Бельчат у Мамы Белки?

В ответе запиши число бельчат

Ответ

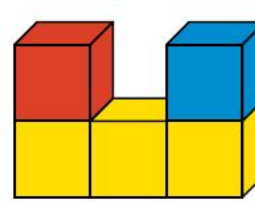
4

Задание №5

Кролик построил фигуру из 5 кубиков (на рисунке справа). Как выглядит эта фигура, если смотреть на нее сверху?



В ответе укажи только номер выбранного варианта (1 или 2 или 3 или 4 или 5)




Ответ

2

Задание №6





На лесной полянке растёт 6 деревьев по кругу. В каждом промежутке между деревьями Бурундук вырыл по одной норке для своего семейства. Сколько всего норок Бурундука на лесной полянке?

В ответе запиши число норок у Бурундука



Ответ

6

Задание №7		Ответ
<p>Медвежонок вместе с санками весит 10 килограмм, а без санок – 8 кг. Сколько весят санки без Медвежонка? <i>В ответе запиши вес санок</i></p>		2
Задание №8		Ответ
<p>Зверята слепили 10 снежков, чтобы собрать снеговиков. Получится ли у них слепить трёх снеговиков, если для одного снеговика нужно 3 снежка? 1. Да, получится 2. Нет, не получится <i>В ответе укажи только номер выбранного варианта (1 или 2)</i></p>		1 Да
Задание №9		Ответ
<p>На картинке гирлянда Лисёнка. Он украшает флажки на гирлянде так: на первом флажке он рисует звездочку, а на двух следующих – снежинки, потом все повторяется. Сколько получится снежинок, когда он украсит всю гирлянду на рисунке?</p>  <p><i>В ответе запиши число снежинок</i></p>		7 снежинок
Задание №10		Ответ
<p>Три дня в лесу падал снег. Зайчонку интересно было наблюдать за снегопадом. Он даже изобразил, как растёт снежный сугроб под деревом. Какой из этих сугробов можно отнести к третьему дню снегопада?</p>  <p><i>В ответе укажи только номер выбранного варианта (1 или 2 или 3)</i></p>		2
Задание №11		Ответ
<p>У Зайчонка в кармане были такие монеты:</p>  <p>А у Бельчонка вот такие:</p>  <p>У кого из зверят оказалось больше денег? 1. У Зайчонка 2. У Бельчонка 3. Денег у них было поровну <i>В ответе укажи только номер выбранного варианта (1 или 2 или 3)</i></p>		3

Задание №12**Ответ**

Помоги Мышонку выбрать подходящий карандаш с соблюдением следующих условий: не синий, не жёлтый и не самый длинный.

1. Синий
2. Красный
3. Желтый
4. Зеленый

В ответе укажите только номер выбранного варианта (1 или 2 или 3 или 4)



4
зеленый

Оценка ответов на вопросы чемпионата:

- за каждый правильный ответ на задания с 1 по 8 – 8 баллов
- за каждый правильный ответ на задания с 9 по 12 – 9 баллов

Уважаемые ребята, родители и координаторы!

Мы будем очень благодарны Вам за оставленный отзыв о конкурсе.

Нам очень важно знать ваше мнение о конкурсных заданиях. Что нового вы узнали, участвуя в конкурсе? Какие задания показались лёгкими? А какие самыми сложными? Что вам не понравилось? Хотели бы вы ещё участвовать в подобных конкурсах?

Ждём все Ваши предложения, пожелания и замечания на наши электронные адреса:

mir-konkursov2008@yandex.ru и mir-konkursov2018@yandex.ru