









Всероссийский математический конкурс
«Лесная арифметика»
(для дошкольников)

Ответы

Ответ должен быть представлен строго в виде ОДНОГО СЛОВА, БУКВЫ или ЧИСЛА (согласно условию задания) без кавычек, точек, орфографических ошибок. Неверно записанные ответы не учитываются.

Задание №1		Ответ
<p>Прочитай весёлый стишок и сосчитай, сколько грибов нашёл ёжик.</p> <p>ЁЖИК СТАЛ ГРИБЫ ИСКАТЬ. ПОД БЕРЕЗОЙ БЫЛО ПЯТЬ, ПОД ОСИНОЙ ТРИ НАШЁЛ И СКОРЕЙ ДОМОЙ ПОШЁЛ.</p> <p><i>В ответе запиши число грибов</i></p>		8
Задание №2		Ответ
<p>Сколько ушей у трёх лисят?</p> <p><i>В ответе запиши число ушей</i></p>		6
Задание №3		Ответ
<p>Реши примеры на осенних листочках и найди вариант ответа, в котором сумма чисел <i>равна 8</i>. В ответе запиши номер верного листочка.</p> <p></p> <p><i>В ответе укажи только номер верного листочка (1 или 2 или 3 или 4)</i></p>		3
Задание №4		Ответ
<p>Бельчонок любит читать сказки, сидя на ветке сосны. Его любимая ветка – третья снизу и третья сверху. Сколько всего веток на этом дереве?</p> <p><i>В ответе запиши число веток на дереве</i></p>		5
Задание №5		Ответ
<p>За листочками спрятались одинаковые цифры. Найдите цифру, которая скрывается за каждым листочком?</p> <p><i>В ответе запишите только эту цифру</i></p>		4
Задание №6		Ответ
<p>Мышка несла в корзинке 10 зёрнышек. По дороге она съела все зёрнышки, кроме трёх. Сколько зёрнышек Мышка съела?</p> <p><i>В ответе запиши число съеденных зернышек</i></p>		7
Задание №7		Ответ
<p>В каком гнезде больше птенцов?</p> <p>1. в первом 2. во втором 3. одинаково</p> <p><i>В ответе укажи только номер выбранного варианта (1 или 2 или 3)</i></p>		1

Задание №8		Ответ
<p>В тарелке лежат яблоки. Если Кролик и его сестрёнка возьмут по 2 яблока, то ещё останется 1 яблоко. Сколько яблок лежит в тарелке?</p> <p><i>В ответе запиши число яблок в тарелке</i></p>		5
Задание №9		Ответ
<p>Сколько яблок Ёжику нужно добавить к фруктам на картинке, чтобы яблок и груш стало поровну?</p> <p>1. 1 2. 2 3. 3 4. 4</p> <p><i>В ответе укажи только номер выбранного варианта (1 или 2 или 3 или 4)</i></p>		2
Задание №10		Ответ
<p>Через неделю и 3 дня у мамы Лосихи день рождения. Через сколько всего дней будет этот праздник?</p> <p><i>В ответе запиши результат в днях</i></p>		10
Задание №11		Ответ
<p>Гусеница прогрызает проход через яблоки по порядку. В каждом яблоке она делает вход и выход. Всего гусеница сделала 4 входа и 3 выхода. В каком яблоке сейчас голова гусеницы?</p> <p><i>В ответе запишите номер яблока, в котором находится голова гусеницы</i></p>		4
Задание №12		Ответ
<p>Кролик разделил яблоко на 4 равных части. Половину он оставил себе, а 2 кусочка отдал Ёжику. Кому досталось больше яблока?</p> <p>1. Кролику 2. Ёжику 3. Одинаково</p> <p><i>В ответе укажи только номер выбранного варианта (1 или 2 или 3)</i></p>		3 Одинаково
Задание №13		Ответ
<p>Ёжик изучает математические фигуры. Помоги ему сосчитать, сколько всего четырёхугольников (фигур с четырьмя углами) здесь изображено.</p> <p><i>В ответе запиши количество четырёхугольников</i></p>		4
Задание №14		Ответ
<p>Посмотри на картинки. Одно яблоко весит как 2 грибочка. А маленький ёжик весит как 4 грибочка. Определи вес ёжика в яблоках.</p> <p><i>В ответе запиши вес ёжика в яблоках</i></p>		2

Оценка ответов на вопросы конкурса:

- за каждый правильный ответ на задания с 1 по 12 – 7 баллов
- за каждый правильный ответ на задания с 13 по 14 – 8 баллов