



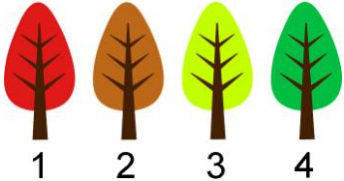


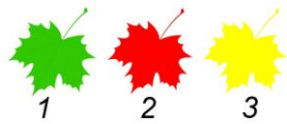




Всероссийский математический конкурс
«Лесная арифметика»
(для учащихся 1 классов)

Ответы

Ответ должен быть представлен строго в виде ОДНОГО СЛОВА, БУКВЫ или ЧИСЛА (согласно условию задания) без кавычек, точек, орфографических ошибок. Неверно записанные ответы не учитываются.

Задание №1		Ответ
<p>Прочитай весёлый стишок и сосчитай, сколько грибов нашёл ёжик.</p> <p>ЁЖИК СТАЛ ГРИБЫ ИСКАТЬ. ПОД БЕРЕЗОЙ БЫЛО ПЯТЬ, ПОД ОСИНОЙ ТРИ НАШЁЛ И СКОРЕЙ ДОМОЙ ПОШЁЛ.</p> <p><i>В ответе запиши число грибов</i></p>		8
Задание №2		Ответ
<p>Попугаю ровно 1 год, а хомячку ровно 11 месяцев. Кто старше – хомячок или попугай?</p> <p>1. хомячок 2. попугай</p> <p><i>В ответе укажи только номер выбранного варианта (1 или 2)</i></p>		2 попугай
Задание №3		Ответ
<p>Реши примеры на осенних листочках и найди вариант ответа, в котором сумма чисел больше 9.</p> <p></p> <p>1 2 3 4</p> <p><i>В ответе укажи только номер верного листочка (1 или 2 или 3 или 4)</i></p>		4
Задание №4		Ответ
<p>Бельчонок любит читать сказки, сидя на ветке сосны. Его любимая ветка – третья снизу и третья сверху. Сколько всего веток на этом дереве?</p> <p><i>В ответе запиши число веток на дереве</i></p>		5
Задание №5		Ответ
<p>За грибочками спрятались одинаковые цифры. Найди цифру, которая скрывается за каждым грибочком. Запиши эту цифру в ответе.</p> <p></p> <p><i>В ответе запиши цифру за грибочком</i></p>		3
Задание №6		Ответ
<p>Мышка несла в корзинке 10 зёрнышек. По дороге она съела все зёрнышки, кроме трёх. Сколько зёрнышек Мышка съела?</p> <p><i>В ответе запиши число съеденных зернышек</i></p>		7

Задание №7		Ответ
<p>Дупло Совы находится на дереве, которое растёт <i>четвертым справа</i> от цветка.</p>  <p>Найди это дерево внизу на картинке и запиши в ответе его номер.</p>  <p><i>В ответе укажи только номер дерева (1 или 2 или 3 или 4)</i></p>		4
Задание №8		Ответ
<p>В тарелке лежат яблоки. Если Кролик и две его сестрёнки возьмут по 2 яблока, то ещё останется 1 яблоко. Сколько яблок лежит в тарелке?</p> <p><i>В ответе запиши число яблок в тарелке</i></p>		7
Задание №9		Ответ
<p>Сколько яблок Ёжику нужно добавить к фруктам на картинке, чтобы яблок и груш стало поровну?</p> <p>1. 1 2. 2 3. 3 4. 4</p> <p><i>В ответе укажи только номер выбранного варианта (1 или 2 или 3 или 4)</i></p>		2
Задание №10		Ответ
<p>Через неделю и 3 дня у мамы Лосихи день рождения. Через сколько всего дней будет этот праздник?</p> <p><i>В ответе запиши результат в днях</i></p>		10
Задание №11		Ответ
<p>Гусеница прогрызает проход через яблоки по порядку. В каждом яблоке она делает вход и выход. Всего гусеница сделала 4 входа и 3 выхода. В каком яблоке сейчас голова гусеницы?</p> <p><i>В ответе запишите номер яблока, в котором находится голова гусеницы</i></p>		4
Задание №12		Ответ
<p>Зайчата собрали 10 красивых осенних листочков и разложили их на столе. Листья строго чередуются по цвету – зелёный, красный, жёлтый.</p> <p>Какого цвета будет <u>последний</u> десятый листок, если первый листочек зелёного цвета?</p> <p><i>В ответе укажи только номер выбранного варианта (1 или 2 или 3)</i></p>		1 <i>зелёный</i>

Задание №13		Ответ
<p>Для того, чтобы перебраться через ручей, Лягушке требуется 4 прыжка, а Кузнечику – 6. У кого из них прыжки длиннее? 1. У Лягушки 2. У Кузнечика <i>В ответе укажи только номер выбранного варианта (1 или 2)</i></p>		<p>1 У лягушки</p>
Задание №14		Ответ
<p>Зверята нарисовали свои портреты из геометрических фигур. На каком рисунке ровно один квадрат, 2 круга и 3 треугольника? </p> <p><i>В ответе укажи только номер выбранного варианта (1 или 2 или 3)</i></p>		<p>2</p>
Задание №15		Ответ
<p>Для ремонта своего жилья Бобру понадобится бревно. Помогите ему подобрать подходящий кусок дерева, если известно, что бревно нужно <i>круглое, не дырявое, без корней и без ветвей</i>. </p> <p><i>В ответе укажи только номер выбранного варианта (1 или 2 или 3 или 4 или 5)</i></p>		<p>5</p>

Оценка ответов на вопросы конкурса:

- за каждый правильный ответ на задания с 1 по 5 – 6 баллов
- за каждый правильный ответ на задания с 6 по 15 – 7 баллов

Уважаемые ребята, родители и координаторы!

Мы будем очень благодарны Вам за оставленный отзыв о конкурсе.

Нам очень важно знать ваше мнение о конкурсных заданиях. Что нового вы узнали, участвуя в конкурсе? Какие задания показались лёгкими? А какие самыми сложными? Что вам не понравилось? Хотели бы вы ещё участвовать в подобных конкурсах?

Ждём все Ваши предложения, пожелания и замечания на наши электронные адреса:

mir-konkursov2008@yandex.ru и mir-konkursov2018@yandex.ru