







**II Международный  
математический чемпионат  
«Занимательная математика со зверятами»  
(для дошкольников 5-7 лет)**



**Мир конкурсов  
ЛИДЕР**  
www.mir-konkursov.ru

**Ответы**

**Ответ должен быть представлен строго в виде ОДНОГО СЛОВА, БУКВЫ или ЧИСЛА (согласно условию задания) без кавычек, точек, орфографических ошибок. Неверно записанные ответы не учитываются.**

<b>Задание №1</b>		<b>Ответ</b>
Белочка каждый день срывает в лесу один лист с дерева для своей аппликации, которую она готовит маме на день рождения. <i>Сколько листьев она наберет за неделю?</i>		<b>7</b>
<b>Задание №2</b>		<b>Ответ</b>
Посчитай, сколько всего ягод собрал Ежик в саду, когда помогал маме. 		<b>2</b>
<i>В ответе запиши количество ягод</i>		
<b>Задание №3</b>		<b>Ответ</b>
Зверята учатся считать. Каждый назвал своё любимое число: Кролик сказал: «Два!» Лисёнок заявил: «Пять!» Волчонок воскликнул: «Восемь!» И тут ещё появился Мышонок, добавив: «Три!» Кто из зверят назвал самое большое число? Запиши это число в ответе. <i>Напиши в ответе самое большое число</i>		<b>8</b> <b>Волчонок</b>
<b>Задание №4</b>		<b>Ответ</b>
Щенок и котенок надували шарик. Каких шариков получилось больше, желтых или зеленых? 		<b>1</b> <b>Зелёных</b>
1. Зелёных 2. Желтых 3. Одинаково <i>Выбери правильный ответ и напиши его номер (1 или 2 или 3)</i>		
<b>Задание №5</b>		<b>Ответ</b>
В коробке с игрушками у белочки Маши лежат кубики. Если добавить туда ещё пять кубиков, станет десять. <i>Сколько кубиков изначально лежало в коробке?</i>		<b>5</b>

Задание №6		Ответ
<p>Ребята, определите, по какому правилу располагаются зверята. Дополните ряд, вставив пропущенного зверька вместо знака вопроса.</p>  <p>1. Белка 2. Заяц 3. Енот</p> <p><i>Выбери правильный ответ и напиши его номер (1 или 2 или 3)</i></p>		<p>3 <i>Енот</i></p>
Задание №7		Ответ
<p>Лисенок убирал свои игрушки и выставил машинки в ряд одну за другой. Между первой машинкой и последней машинкой стоит три машинки.</p> <p><i>Посчитай сколько всего машинок в ряду?</i></p>		<p>5</p>
Задание №8		Ответ
<p>У медвежонка Миши день рождения. К нему пришли друзья. Рассмотри картинку и посчитай количество стульев, которые понадобятся для всех друзей, самого именинника и его мамы и папы.</p>  <p><i>В ответе запиши количество стульев</i></p>		<p>7</p>
Задание №9		Ответ
<p>Помоги Зайчонку сосчитать, сколько круглых предметов он взял с собой в поход:</p>  <p><i>В ответ запиши количество круглых предметов</i></p>		<p>5</p>
Задание №10		Ответ
<p>Посмотрите внимательно на картинку и определите, по какому правилу располагаются животные. Напишите, кто должен стоять из животных на месте вопроса?</p>  <p>1. Щенок 2. Поросяенок 3. Енот</p> <p><i>Выбери правильный ответ и напиши его номер (1 или 2 или 3)</i></p>		<p>2</p>

Задание №11		Ответ
<p>Ребята, посчитайте, сколько зеленых рыбок плывет слева направо?</p>  <p><i>В ответе укажи количество зеленых рыб, которые плывут слева направо</i></p>		3
Задание №12		Ответ
<p>Бабушка Свинка испекла пирожки и ватрушки. Известно, что в одну тарелку она положила 2 пирожка и 1 ватрушку. Сколько пирожков она положила во вторую тарелку, если всего в двух тарелках оказалось 5 пирожков и 1 ватрушка.</p> <p><i>В ответ запиши количество пирожков во второй тарелке</i></p>		3
Задание №13		Ответ
<p>Как-то утром Баба-яга решила посчитать всех разноцветных бабочек, порхающих над её избушкой на куриных ножках.</p>  <p>Помоги Бабе-яге посчитать правильно и выяснить, бабочек какого цвета летает больше:</p> <ol style="list-style-type: none"> <li>1. Синих</li> <li>2. Красных</li> <li>3. Желтых</li> </ol> <p><i>Выбери правильный ответ и напиши его номер (1 или 2 или 3)</i></p>		3 Желтых

### Оценка ответов на вопросы конкурса:

- за каждый правильный ответ на задания с 1 по 4 – 7 баллов
- за каждый правильный ответ на задания с 5 по 13 – 8 баллов

Уважаемые ребята, родители и координаторы!

Мы будем очень благодарны Вам за оставленный отзыв о конкурсе.

Нам очень важно знать ваше мнение о конкурсных заданиях. Что нового вы узнали, участвуя в конкурсе? Какие задания показались лёгкими? А какие самыми сложными? Что вам не понравилось? Хотели бы вы ещё участвовать в подобных конкурсах?

Ждём все Ваши предложения, пожелания и замечания на наши электронные адреса:

mir-konkursov2008@yandex.ru и mir-konkursov2018@yandex.ru