

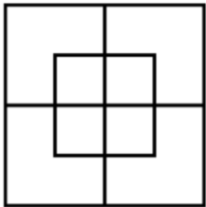





**II Международный  
математический чемпионат  
«Занимательная математика со зверятами»  
(для учащихся 2 классов)**


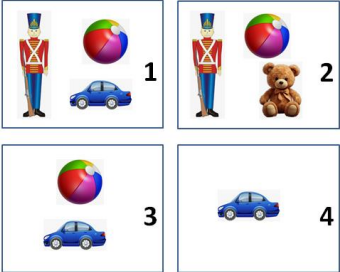
**Мир конкурсов  
ЛИДЕР**  
[www.mir-konkursov.ru](http://www.mir-konkursov.ru)

**Ответы**

**Ответ должен быть представлен строго в виде ОДНОГО СЛОВА, БУКВЫ или ЧИСЛА (согласно условию задания) без кавычек, точек, орфографических ошибок. Неверно записанные ответы не учитываются.**

<b>Задание №1</b>		<b>Ответ</b>
Белочка каждый день срывает в лесу одну шишку с дерева для своей аппликации, которую она готовит маме на день рождения. <i>Сколько шишек она наберет за январь месяц?</i>		<b>31</b>
<b>Задание №2</b>		<b>Ответ</b>
Вася фотографировал растущего крольчонка раз в месяц: в феврале, в марте, в апреле, в мае. Получилось 4 фотографии, которые представлены на картинке. Какая фотография была сделана в мае? 		<b>2</b>
<i>В ответе запиши номер фотографии</i>		
<b>Задание №3</b>		<b>Ответ</b>
Два котёнка ловили рыбку. Один поймал 10 рыбок, другой – вдвое меньше. <i>Сколько рыбы поймали оба котёнка вместе?</i>		<b>15</b>
<b>Задание №4</b>		<b>Ответ</b>
У медвежонка Миши день рождения. К нему пришли друзья. Рассмотрите картинку и посчитайте количество стульев, которые понадобятся для всех друзей, самого именинника и его мамы и папы: 		<b>7</b>
<i>В ответе запиши количество стульев</i>		
<b>Задание №5</b>		<b>Ответ</b>
Три зайчика собирали морковь. Первый зайчик собрал 8 штук, второй – на 3 штуки больше первого, третий – столько же, сколько первый и второй вместе. <i>Сколько всего морковок набрали три зайчика?</i>		<b>38</b>
<b>Задание №6</b>		<b>Ответ</b>
Лисички из палочек сложили квадраты и никак не могут сосчитать, сколько всего квадратов у них получилось. 		<b>10</b>
<i>В ответе запиши число квадратов</i> <i>*прямоугольники не считаем</i>		

<p align="center"><b>Задание №7</b></p> <p>У собачки было 36 косточек, она оставила половину хозяину, а остальные разделила пополам между собой и другом-лисенком.</p> <p><i>Сколько косточек осталось собачке?</i></p>		<p align="center"><b>Ответ</b></p> <p align="center"><b>9</b></p>
<p align="center"><b>Задание №8</b></p> <p>Кролик построил 4 башни из яблок. В первой было 3 яблока, а в каждой следующей – на 2 яблока больше, чем в предыдущей.</p> <p><i>Сколько всего яблок было использовано на строительство 4 башен?</i></p>		<p align="center"><b>Ответ</b></p> <p align="center"><b>24</b></p> <p><i>Решение:</i> Найдём общее количество яблок в четырех башнях: <math>3 + 5 + 7 + 9 = 24</math>.</p>
<p align="center"><b>Задание №9</b></p> <p>Маленькая птичка решила прогуляться по своему садику. Садик квадратный. Если длина стороны равна пяти шагам, сколько шагов сделала птичка, обойдя весь сад один раз?</p> <p><i>Укажи в ответе количество шагов</i></p>		<p align="center"><b>Ответ</b></p> <p align="center"><b>20</b></p>
<p align="center"><b>Задание №10</b></p> <p>Ребята, определите, по какому правилу располагаются зверята. Дополните ряд, вставив пропущенного зверька вместо знака вопроса:</p> <p align="center">  </p> <p>1. Белка 2. Заяц 3. Енот</p> <p><i>Выбери правильный ответ и напиши его номер (1 или 2 или 3)</i></p>		<p align="center"><b>Ответ</b></p> <p align="center"><b>1</b> <b>Белка</b></p>
<p align="center"><b>Задание №11</b></p> <p>У Зайца есть 14 морковок, а у Ёжика на 8 морковок меньше, чем у Зайца. Сколько морковок Заяц может отдать Ёжику, чтобы морковок у них стало поровну?</p> <p><i>В ответе запиши полученный результат</i></p>		<p align="center"><b>Ответ</b></p> <p align="center"><b>4</b></p> <p><i>Решение:</i> У ёжика 6 морковок. Если Заяц отдаст ему 4 морковки, то у каждого будет по 10 морковок.</p>
<p align="center"><b>Задание №12</b></p> <p>Медвежонок Миша собирает разноцветные кубики. Красный кубик тяжелее синего, синий легче зеленого, зеленый тяжелее красного. Какие кубики расположены в правильном порядке слева направо по возрастанию массы?</p> <p>1  2 </p> <p>3 </p> <p><i>Выбери правильный ответ и напиши его номер (1 или 2 или 3)</i></p>		<p align="center"><b>Ответ</b></p> <p align="center"><b>2</b></p>

Задание №13		Ответ
<p>В 3-х этажном лесном теремке живут Белочка, Ёжик и Хомяк. Хомяк живёт ниже Белочки, а Ёжик живёт ниже Хомяка. Кто живёт на втором этаже?</p> <p>1. Белочка 2. Ёжик 3. Хомяк</p> <p><i>Выбери правильный ответ и напиши его номер (1 или 2 или 3)</i></p>		<p><b>3</b> <b>хомяк</b></p>
Задание №14		Ответ
<p>В четырёх коробках у медвежонка Миши лежали игрушки, как на картинках справа.</p> <p>Миша убрал несколько игрушек из коробок так, что в каждой коробке осталось по одной игрушке, и все они разные. Какая игрушка осталась во второй коробке?</p> <p>1. Мячик 2. Солдатик 3. Мишка 4. Машинка</p> <p><i>Выбери правильный ответ и напиши его номер (1 или 2 или 3 или 4)</i></p>		<p><b>3</b> <b>мишка</b></p>

### Оценка ответов на вопросы конкурса:

- за каждый правильный ответ на задания с 1 по 12 – 7 баллов

- за каждый правильный ответ на задания с 13 по 14 – 8 баллов

Уважаемые ребята, родители и координаторы!

Мы будем очень благодарны Вам за оставленный отзыв о конкурсе.

Нам очень важно знать ваше мнение о конкурсных заданиях. Что нового вы узнали, участвуя в конкурсе?

Какие задания показались лёгкими? А какие самыми сложными? Что вам не понравилось? Хотели бы вы ещё участвовать в подобных конкурсах?

Ждём все Ваши предложения, пожелания и замечания на наши электронные адреса:

mir-konkursov2008@yandex.ru и mir-konkursov2018@yandex.ru