

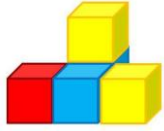





**Международный
математический чемпионат
«Занимательная математика со зверятами»
(для дошкольников)**

Ответы

Ответ должен быть представлен строго в виде **ОДНОГО ЧИСЛА** или **СЛОВА** (согласно условию задания) без кавычек, точек и других дополнительных символов. Неверно записанные ответы не учитываются.

Задание №1		Ответ
<p>Для аппликации Мышка разрезала мишуру в трёх местах. Сколько всего маленьких кусочков мишуры у неё получилось? <i>В ответе запиши полученное число</i></p>		4
Задание №2		Ответ
<p>У Белочки в хозяйстве было 5 чашек. </p> <p>А Мышка бежала, хвостиком вильнула и разбила 2 чашки. Сколько целых чашек осталось в доме? <i>В ответе запиши количество целых чашек</i></p>		3
Задание №3		Ответ
<p>На дереве висели 10 шишек. Бельчата играли на дереве и сорвали ровно по одной шишке каждый. После этого на дереве осталось 7 шишек. Сколько Бельчат играли на дереве? <i>В ответе запиши число бельчат</i></p>		3
Задание №4		Ответ
<p>Зайка и Ёжик очень любят зиму! Одно из их любимых занятий на зимней прогулке – лепить снеговика! Найди снеговика Зайки и Ёжика – такого же, как на образце. </p> <p><i>В ответе укажи только номер выбранного варианта (1 или 2 или 3 или 4 или 5)</i></p>	<p>ОБРАЗЕЦ</p> 	3
Задание №5		Ответ
<p>Возле домика тётушки Совы росло 5 ёлочек. Она посадила ещё 2 дуба и 3 ёлочки. <i>Сколько всего ёлочек стало возле дома тётушки Совы?</i></p>		8
Задание №6		Ответ
<p>Кролик за день съедает на 2 морковки меньше, чем число дней в неделе. Сколько морковок Кролик съедает за день? <i>В ответе запиши число морковок</i></p>		5

<p align="center">Задание №7</p>		<p align="center">Ответ</p>
<p>Начиная строительство теремка, зверята нарисовали его проект. Сколько кубиков потребуется для строительства теремка? <i>В ответе запиши количество кубиков</i></p>		<p align="center">5</p>
<p align="center">Задание №8</p>		<p align="center">Ответ</p>
<p>Белочка и Ёжик часто любят зимами огнями. Совсем недавно они выглянули в окно, а там – салют. Определи, в каком порядке располагаются картинки, и продолжи план салюта.</p> <p align="center">  </p> <p>Какая картинка окажется на месте знака вопроса. <i>В ответе укажи только номер выбранного варианта (1 или 2)</i></p>		<p align="center">1</p>
<p align="center">Задание №9</p>		<p align="center">Ответ</p>
<p>Ёжик написал цветными карандашами слово «МОРОЗ». Одинаковые буквы Ёжик записывал одним и тем же цветом, разные – разным цветом. Сколько цветных карандашей понадобилось Ёжику, чтобы написать это слово? <i>В ответе запишите только число карандашей</i></p>		<p align="center">4 карандаш а</p>
<p align="center">Задание №10</p>		<p align="center">Ответ</p>
<p>Тётушка Сова живёт во втором домике справа на рисунке. Покажи домик тётушки Совы.</p> <p align="center">  </p> <p><i>В ответе укажи только номер домика (1 или 2 или 3 или 4 или 5)</i></p>		<p align="center">4</p>
<p align="center">Задание №11</p>		<p align="center">Ответ</p>
<p>В лесу начался математический снегопад! Лисята выбежали на полянку и начали ловить снежинки. Они умели считать только до 9, поэтому смогли поймать только снежинки, на которых сумма чисел была <i>меньше</i> 10. Сколько снежинок поймали Лисята? <i>В ответе запиши число пойманных снежинок</i></p>		<p align="center">2</p>
<p align="center">Задание №12</p>		<p align="center">Ответ</p>
<p>Ёжик и Мышка родились в один год. Ёжик родился в феврале, а Мышка в декабре. <i>Кто из зверят старше?</i></p> <p>1. Ёжик 2. Мышка <i>В ответе укажите только номер выбранного варианта (1 или 2)</i></p>		<p align="center">1 Ёжик</p>

Оценка ответов на вопросы конкурса:

- за каждый правильный ответ на задания с 1 по 8 – 8 баллов

- за каждый правильный ответ на задания с 9 по 12 – 9 баллов

Уважаемые ребята, родители и координаторы!

Мы будем очень благодарны Вам за оставленный отзыв о конкурсе.

Нам очень важно знать ваше мнение о конкурсных заданиях. Что нового вы узнали, участвуя в конкурсе? Какие задания показались лёгкими? А какие самыми сложными? Что вам не понравилось? Хотели бы вы ещё участвовать в подобных конкурсах?

Ждём все Ваши предложения, пожелания и замечания на наши электронные адреса:

mir-konkursov2008@yandex.ru и mir-konkursov2018@yandex.ru